


Муниципальное бюджетное общеобразовательное учреждение
"Балезинская средняя общеобразовательная школа № 5"

РАССМОТРЕНО


На заседании МО учителей
математики, информатики,
физики, химии, биологии


Руководитель МО
Першина Н.С.

Протокол №10
от «27» августа 2024 г

СОГЛАСОВАНО

Заместитель директора
школы по УВР


Дюкина Г.В.

УТВЕРЖДЕНО

Директор школы


Васильева М.В.

Приказ №340 - ОД
от «27» августа 2024 г.

РАБОЧАЯ ПРОГРАММА

(ID 2064766)

учебного предмета «Физика. Базовый уровень»

для обучающихся 10 – 11 классов

Учитель: Фёдорова Любовь Юрьевна

п. Балезино, 2024 г

ПОЯСНИТЕЛЬНАЯ ЗАПИСКА

Программа по физике базового уровня на уровне среднего общего образования разработана на основе положений и требований к результатам освоения основной образовательной программы, представленных в ФГОС СОО, а также с учётом федеральной рабочей программы воспитания и концепции преподавания учебного предмета «Физика» в образовательных организациях Российской Федерации, реализующих основные образовательные программы.

Содержание программы по физике направлено на формирование естественно-научной картины мира обучающихся 10–11 классов при обучении их физике на базовом уровне на основе системно-деятельностного подхода. Программа по физике соответствует требованиям ФГОС СОО к планируемым личностным, предметным и метапредметным результатам обучения, а также учитывает необходимость реализации межпредметных связей физики с естественно-научными учебными предметами. В ней определяются основные цели изучения физики на уровне среднего общего образования, планируемые результаты освоения курса физики: личностные, метапредметные, предметные (на базовом уровне).

Программа по физике включает:

- планируемые результаты освоения курса физики на базовом уровне, в том числе предметные результаты по годам обучения;
- содержание учебного предмета «Физика» по годам обучения.

Физика как наука о наиболее общих законах природы, выступая в качестве учебного предмета в школе, вносит существенный вклад в систему знаний об окружающем мире. Школьный курс физики – системообразующий для естественно-научных учебных предметов, поскольку физические законы лежат в основе процессов и явлений, изучаемых химией, биологией, физической географией и астрономией. Использование и активное применение физических знаний определяет характер и развитие разнообразных технологий в сфере энергетики, транспорта, освоения космоса, получения новых материалов с заданными свойствами и других. Изучение физики вносит основной вклад в формирование естественно-научной картины мира обучающихся, в формирование умений применять научный метод познания при выполнении ими учебных исследований.

В основу курса физики для уровня среднего общего образования положен ряд идей, которые можно рассматривать как принципы его построения.

Идея целостности. В соответствии с ней курс является логически завершённым, он содержит материал из всех разделов физики, включает как вопросы классической, так и современной физики.

Идея генерализации. В соответствии с ней материал курса физики объединён вокруг физических теорий. Ведущим в курсе является формирование представлений о структурных уровнях материи, веществе и поле.

Идея гуманитаризации. Её реализация предполагает использование гуманитарного потенциала физической науки, осмысление связи развития физики с развитием общества, а также с мировоззренческими, нравственными и экологическими проблемами.

Идея прикладной направленности. Курс физики предполагает знакомство с широким кругом технических и технологических приложений изученных теорий и законов.

Идея экологизации реализуется посредством введения элементов содержания, посвящённых экологическим проблемам современности, которые связаны с развитием техники и технологий, а также обсуждения проблем рационального природопользования и экологической безопасности.

Стержневыми элементами курса физики на уровне среднего общего образования являются физические теории (формирование представлений о структуре построения физической теории, роли фундаментальных законов и принципов в современных представлениях о природе, границах применимости теорий, для описания естественно-научных явлений и процессов).

Системно-деятельностный подход в курсе физики реализуется прежде всего за счёт организации экспериментальной деятельности обучающихся. Для базового уровня курса физики – это использование системы фронтальных кратковременных экспериментов и лабораторных работ, которые в программе по физике объединены в общий список ученических практических работ. Выделение в указанном перечне лабораторных работ, проводимых для контроля и оценки, осуществляется участниками образовательного процесса исходя из особенностей планирования и оснащения кабинета физики. При этом обеспечивается овладение обучающимися умениями проводить косвенные измерения, исследования зависимостей физических величин и постановку опытов по проверке предложенных гипотез.

Большое внимание уделяется решению расчётных и качественных задач. При этом для расчётных задач приоритетом являются задачи с явно заданной физической моделью, позволяющие применять изученные законы и

закономерности как из одного раздела курса, так и интегрируя знания из разных разделов. Для качественных задач приоритетом являются задания на объяснение протекания физических явлений и процессов в окружающей жизни, требующие выбора физической модели для ситуации практико-ориентированного характера.

В соответствии с требованиями ФГОС СОО к материально-техническому обеспечению учебного процесса базовый уровень курса физики на уровне среднего общего образования должен изучаться в условиях предметного кабинета физики или в условиях интегрированного кабинета предметов естественно-научного цикла. В кабинете физики должно быть необходимое лабораторное оборудование для выполнения указанных в программе по физике ученических практических работ и демонстрационное оборудование.

Демонстрационное оборудование формируется в соответствии с принципом минимальной достаточности и обеспечивает постановку перечисленных в программе по физике ключевых демонстраций для исследования изучаемых явлений и процессов, эмпирических и фундаментальных законов, их технических применений.

Лабораторное оборудование для ученических практических работ формируется в виде тематических комплектов и обеспечивается в расчёте одного комплекта на двух обучающихся. Тематические комплекты лабораторного оборудования должны быть построены на комплексном использовании аналоговых и цифровых приборов, а также компьютерных измерительных систем в виде цифровых лабораторий.

Основными целями изучения физики в общем образовании являются:

- формирование интереса и стремления обучающихся к научному изучению природы, развитие их интеллектуальных и творческих способностей;
- развитие представлений о научном методе познания и формирование исследовательского отношения к окружающим явлениям;
- формирование научного мировоззрения как результата изучения основ строения материи и фундаментальных законов физики;
- формирование умений объяснять явления с использованием физических знаний и научных доказательств;
- формирование представлений о роли физики для развития других естественных наук, техники и технологий.

Достижение этих целей обеспечивается решением следующих задач в процессе изучения курса физики на уровне среднего общего образования:

- приобретение системы знаний об общих физических закономерностях, законах, теориях, включая механику, молекулярную физику, электродинамику, квантовую физику и элементы астрофизики;
- формирование умений применять теоретические знания для объяснения физических явлений в природе и для принятия практических решений в повседневной жизни;
- освоение способов решения различных задач с явно заданной физической моделью, задач, подразумевающих самостоятельное создание физической модели, адекватной условиям задачи;
- понимание физических основ и принципов действия технических устройств и технологических процессов, их влияния на окружающую среду;
- овладение методами самостоятельного планирования и проведения физических экспериментов, анализа и интерпретации информации, определения достоверности полученного результата;
- создание условий для развития умений проектно-исследовательской, творческой деятельности.

Воспитательный потенциал предмета «Физика» реализуется через:

- Побуждение обучающихся соблюдать на уроке общепринятые нормы поведения, правила общения со старшими (педагогическими работниками) и сверстниками (обучающимися), принципы учебной дисциплины и самоорганизации. Методы и приемы: обсуждение правил общения со старшими (учителями) и сверстниками(школьниками), принципы учебной дисциплины и самоорганизации;

- Привлечение внимания обучающихся к ценностному аспекту изучаемых на уроках предметов, явлений, событий через: обращение внимания на нравственные аспекты научных открытий, которые изучаются в данный момент на уроке; на представителей ученых, связанных с изучаемыми в данный момент темами, на тот вклад, который они внесли в развитие нашей страны и мира, на достойные подражания примеры их жизни, на мотивы их поступков. Методы и приемы: организация работы с получаемой на уроке социально - значимой информацией, инициирование ее обсуждения, высказывания обучающимися своего мнения, выработки своего отношения;

- Использование воспитательных возможностей содержания учебного предмета для формирования у обучающихся российских традиционных духовно-нравственных и социокультурных ценностей. Методы и приемы:

демонстрация детям примера ответственного, гражданского поведения, проявления человеколюбия и добросердечности, через подбор соответствующих текстов для чтения, задач для решения, проблемных ситуаций для обсуждения в классе);

- Включение в урок игровых процедур, которые помогают поддержать мотивацию обучающихся к получению знаний, налаживанию позитивных межличностных отношений в классе, помогают установлению доброжелательной атмосферы во время урока;

- Применение на уроке интерактивных форм работы, стимулирующих познавательную мотивацию обучающихся.

- Применение групповой работы или работы в парах, которые способствуют развитию навыков командной работы и взаимодействию с другими обучающимися.

- Выбор и использование на уроках методов, методик, технологий, оказывающих воспитательное воздействие на личность в соответствии с воспитательным идеалом, целью и задачами воспитания;

- Инициирование и поддержка исследовательской деятельности школьников в форме включения в урок различных исследовательских заданий и задач, что дает возможность обучающимся приобрести навыки самостоятельного решения теоретической проблемы, генерирования и оформления собственных гипотез, уважительного отношения к чужим идеям, публичного выступления, аргументирования и отстаивания своей точки зрения. Методы и приемы: реализация индивидуальных и групповых исследовательских проектов.

- Установление уважительных, доверительных, неформальных отношений между учителем и учениками, создание на уроках эмоционально-комфортной среды;

- Организация шефства мотивированных и эрудированных учащихся над их неуспевающими одноклассниками, дающего школьникам социально значимый опыт сотрудничества и взаимной помощи. Методы и приемы: наставничество.

На изучение физики (базовый уровень) на уровне среднего общего образования отводится 136 часов: в 10 классе – 68 часов (2 часа в неделю), в 11 классе – 68 часов (2 часа в неделю).

Предлагаемый в программе по физике перечень лабораторных и практических работ является рекомендованным, учитель делает выбор проведения лабораторных работ и опытов с учётом индивидуальных особенностей обучающихся.

СОДЕРЖАНИЕ ОБУЧЕНИЯ

10 КЛАСС

Раздел 1. Физика и методы научного познания

Физика – наука о природе. Научные методы познания окружающего мира. Роль эксперимента и теории в процессе познания природы. Эксперимент в физике.

Моделирование физических явлений и процессов. Научные гипотезы. Физические законы и теории. Границы применимости физических законов. Принцип соответствия.

Роль и место физики в формировании современной научной картины мира, в практической деятельности людей.

Демонстрации

Аналоговые и цифровые измерительные приборы, компьютерные датчики.

Раздел 2. Механика

Тема 1. Кинематика

Механическое движение. Относительность механического движения. Система отсчёта. Траектория.

Перемещение, скорость (средняя скорость, мгновенная скорость) и ускорение материальной точки, их проекции на оси системы координат. Сложение перемещений и сложение скоростей.

Равномерное и равноускоренное прямолинейное движение. Графики зависимости координат, скорости, ускорения, пути и перемещения материальной точки от времени.

Свободное падение. Ускорение свободного падения.

Криволинейное движение. Движение материальной точки по окружности с постоянной по модулю скоростью. Угловая скорость, линейная скорость. Период и частота обращения. Центробежное ускорение.

Технические устройства и практическое применение: спидометр, движение снарядов, цепные и ремённые передачи.

Демонстрации

Модель системы отсчёта, иллюстрация кинематических характеристик движения.

Преобразование движений с использованием простых механизмов.

Падение тел в воздухе и в разреженном пространстве.

Наблюдение движения тела, брошенного под углом к горизонту и горизонтально.

Измерение ускорения свободного падения.

Направление скорости при движении по окружности.

Ученический эксперимент, лабораторные работы

Изучение неравномерного движения с целью определения мгновенной скорости.

Исследование соотношения между путями, пройденными телом за последовательные равные промежутки времени при равноускоренном движении с начальной скоростью, равной нулю.

Изучение движения шарика в вязкой жидкости.

Изучение движения тела, брошенного горизонтально.

Тема 2. Динамика

Принцип относительности Галилея. Первый закон Ньютона. Инерциальные системы отсчёта.

Масса тела. Сила. Принцип суперпозиции сил. Второй закон Ньютона для материальной точки. Третий закон Ньютона для материальных точек.

Закон всемирного тяготения. Сила тяжести. Первая космическая скорость.

Сила упругости. Закон Гука. Вес тела.

Трение. Виды трения (покоя, скольжения, качения). Сила трения. Сухое трение. Сила трения скольжения и сила трения покоя. Коэффициент трения. Сила сопротивления при движении тела в жидкости или газе.

Поступательное и вращательное движение абсолютно твёрдого тела.

Момент силы относительно оси вращения. Плечо силы. Условия равновесия твёрдого тела.

Технические устройства и практическое применение: подшипники, движение искусственных спутников.

Демонстрации

Явление инерции.

Сравнение масс взаимодействующих тел.

Второй закон Ньютона.

Измерение сил.

Сложение сил.

Зависимость силы упругости от деформации.

Невесомость. Вес тела при ускоренном подъёме и падении.

Сравнение сил трения покоя, качения и скольжения.

Условия равновесия твёрдого тела. Виды равновесия.

Ученический эксперимент, лабораторные работы

Изучение движения бруска по наклонной плоскости.

Исследование зависимости сил упругости, возникающих в пружине и резиновом образце, от их деформации.

Исследование условий равновесия твёрдого тела, имеющего ось вращения.

Тема 3. Законы сохранения в механике

Импульс материальной точки (тела), системы материальных точек. Импульс силы и изменение импульса тела. Закон сохранения импульса. Реактивное движение.

Работа силы. Мощность силы.

Кинетическая энергия материальной точки. Теорема об изменении кинетической энергии.

Потенциальная энергия. Потенциальная энергия упруго деформированной пружины. Потенциальная энергия тела вблизи поверхности Земли.

Потенциальные и непотенциальные силы. Связь работы непотенциальных сил с изменением механической энергии системы тел. Закон сохранения механической энергии.

Упругие и неупругие столкновения.

Технические устройства и практическое применение: водомёт, копёр, пружинный пистолет, движение ракет.

Демонстрации

Закон сохранения импульса.

Реактивное движение.

Переход потенциальной энергии в кинетическую и обратно.

Ученический эксперимент, лабораторные работы

Изучение абсолютно неупругого удара с помощью двух одинаковых нитяных маятников.

Исследование связи работы силы с изменением механической энергии тела на примере растяжения резинового жгута.

Раздел 3. Молекулярная физика и термодинамика

Тема 1. Основы молекулярно-кинетической теории

Основные положения молекулярно-кинетической теории и их опытное обоснование. Броуновское движение. Диффузия. Характер движения и взаимодействия частиц вещества. Модели строения газов, жидкостей и твёрдых тел и объяснение свойств вещества на основе этих моделей. Масса и размеры молекул. Количество вещества. Постоянная Авогадро.

Тепловое равновесие. Температура и её измерение. Шкала температур Цельсия.

Модель идеального газа. Основное уравнение молекулярно-кинетической теории идеального газа. Абсолютная температура как мера средней кинетической энергии теплового движения частиц газа. Шкала температур Кельвина. Газовые законы. Уравнение Менделеева–Клапейрона. Закон Дальтона. Изопроцессы в идеальном газе с постоянным количеством вещества. Графическое представление изопроцессов: изотерма, изохора, изобара.

Технические устройства и практическое применение: термометр, барометр.

Демонстрации

Опыты, доказывающие дискретное строение вещества, фотографии молекул органических соединений.

Опыты по диффузии жидкостей и газов.

Модель броуновского движения.

Модель опыта Штерна.

Опыты, доказывающие существование межмолекулярного взаимодействия.

Модель, иллюстрирующая природу давления газа на стенки сосуда.

Опыты, иллюстрирующие уравнение состояния идеального газа, изопроцессы.

Ученический эксперимент, лабораторные работы

Определение массы воздуха в классной комнате на основе измерений объёма комнаты, давления и температуры воздуха в ней.

Исследование зависимости между параметрами состояния разреженного газа.

Тема 2. Основы термодинамики

Термодинамическая система. Внутренняя энергия термодинамической системы и способы её изменения. Количество теплоты и работа. Внутренняя энергия одноатомного идеального газа. Виды теплопередачи: теплопроводность, конвекция, излучение. Удельная теплоёмкость вещества. Количество теплоты при теплопередаче.

Понятие об адиабатном процессе. Первый закон термодинамики. Применение первого закона термодинамики к изопроцессам. Графическая интерпретация работы газа.

Второй закон термодинамики. Необратимость процессов в природе.

Тепловые машины. Принципы действия тепловых машин. Преобразования энергии в тепловых машинах. Коэффициент полезного действия тепловой машины. Цикл Карно и его коэффициент полезного действия. Экологические проблемы теплоэнергетики.

Технические устройства и практическое применение: двигатель внутреннего сгорания, бытовой холодильник, кондиционер.

Демонстрации

Изменение внутренней энергии тела при совершении работы: вылет пробки из бутылки под действием сжатого воздуха, нагревание эфира в латунной трубке путём трения (видеодемонстрация).

Изменение внутренней энергии (температуры) тела при теплопередаче.

Опыт по адиабатному расширению воздуха (опыт с воздушным огнём).

Модели паровой турбины, двигателя внутреннего сгорания, реактивного двигателя.

Ученический эксперимент, лабораторные работы

Измерение удельной теплоёмкости.

Тема 3. Агрегатные состояния вещества. Фазовые переходы

Парообразование и конденсация. Испарение и кипение. Абсолютная и относительная влажность воздуха. Насыщенный пар. Удельная теплота парообразования. Зависимость температуры кипения от давления.

Твёрдое тело. Кристаллические и аморфные тела. Анизотропия свойств кристаллов. Жидкие кристаллы. Современные материалы. Плавление и кристаллизация. Удельная теплота плавления. Сублимация.

Уравнение теплового баланса.

Технические устройства и практическое применение: гигрометр и психрометр, калориметр, технологии получения современных материалов, в том числе наноматериалов, и нанотехнологии.

Демонстрации

Свойства насыщенных паров.

Кипение при пониженном давлении.

Способы измерения влажности.

Наблюдение нагревания и плавления кристаллического вещества.

Демонстрация кристаллов.

Ученический эксперимент, лабораторные работы

Измерение относительной влажности воздуха.

Раздел 4. Электродинамика

Тема 1. Электростатика

Электризация тел. Электрический заряд. Два вида электрических зарядов. Проводники, диэлектрики и полупроводники. Закон сохранения электрического заряда.

Взаимодействие зарядов. Закон Кулона. Точечный электрический заряд. Электрическое поле. Напряжённость электрического поля. Принцип

суперпозиции электрических полей. Линии напряжённости электрического поля.

Работа сил электростатического поля. Потенциал. Разность потенциалов. Проводники и диэлектрики в электростатическом поле. Диэлектрическая проницаемость.

Емкость. Конденсатор. Емкость плоского конденсатора. Энергия заряженного конденсатора.

Технические устройства и практическое применение: электроскоп, электрометр, электростатическая защита, заземление электроприборов, конденсатор, копировальный аппарат, струйный принтер.

Демонстрации

Устройство и принцип действия электрометра.

Взаимодействие наэлектризованных тел.

Электрическое поле заряженных тел.

Проводники в электростатическом поле.

Электростатическая защита.

Диэлектрики в электростатическом поле.

Зависимость емкости плоского конденсатора от площади пластин, расстояния между ними и диэлектрической проницаемости.

Энергия заряженного конденсатора.

Учебный эксперимент, лабораторные работы

Измерение емкости конденсатора.

Тема 2. Постоянный электрический ток. Токи в различных средах

Электрический ток. Условия существования электрического тока. Источники тока. Сила тока. Постоянный ток.

Напряжение. Закон Ома для участка цепи.

Электрическое сопротивление. Удельное сопротивление вещества. Последовательное, параллельное, смешанное соединение проводников.

Работа электрического тока. Закон Джоуля–Ленца. Мощность электрического тока.

Электродвижущая сила и внутреннее сопротивление источника тока. Закон Ома для полной (замкнутой) электрической цепи. Короткое замыкание.

Электронная проводимость твердых металлов. Зависимость сопротивления металлов от температуры. Сверхпроводимость.

Электрический ток в вакууме. Свойства электронных пучков.

Полупроводники. Собственная и примесная проводимость полупроводников. Свойства p–n-перехода. Полупроводниковые приборы.

Электрический ток в растворах и расплавах электролитов. Электролитическая диссоциация. Электролиз.

Электрический ток в газах. Самостоятельный и несамостоятельный разряд. Молния. Плазма.

Технические устройства и практическое применение: амперметр, вольтметр, реостат, источники тока, электронагревательные приборы, электроосветительные приборы, термометр сопротивления, вакуумный диод, термисторы и фоторезисторы, полупроводниковый диод, гальваника.

Демонстрации

Измерение силы тока и напряжения.

Зависимость сопротивления цилиндрических проводников от длины, площади поперечного сечения и материала.

Смешанное соединение проводников.

Прямое измерение электродвижущей силы. Короткое замыкание гальванического элемента и оценка внутреннего сопротивления.

Зависимость сопротивления металлов от температуры.

Проводимость электролитов.

Искровой разряд и проводимость воздуха.

Односторонняя проводимость диода.

Ученический эксперимент, лабораторные работы

Изучение смешанного соединения резисторов.

Измерение электродвижущей силы источника тока и его внутреннего сопротивления.

Наблюдение электролиза.

Межпредметные связи

Изучение курса физики базового уровня в 10 классе осуществляется с учётом содержательных межпредметных связей с курсами математики, биологии, химии, географии и технологии.

Межпредметные понятия, связанные с изучением методов научного познания: явление, научный факт, гипотеза, физическая величина, закон, теория, наблюдение, эксперимент, моделирование, модель, измерение.

Математика: решение системы уравнений, линейная функция, парабола, гипербола, их графики и свойства, тригонометрические функции: синус, косинус, тангенс, котангенс, основное тригонометрическое тождество, векторы и их проекции на оси координат, сложение векторов.

Биология: механическое движение в живой природе, диффузия, осмос, теплообмен живых организмов (виды теплопередачи, тепловое равновесие), электрические явления в живой природе.

Химия: дискретное строение вещества, строение атомов и молекул, моль вещества, молярная масса, тепловые свойства твёрдых тел, жидкостей и

газов, электрические свойства металлов, электролитическая диссоциация, гальваника.

География: влажность воздуха, ветры, барометр, термометр.

Технология: преобразование движений с использованием механизмов, учёт трения в технике, подшипники, использование закона сохранения импульса в технике (ракета, водомёт и другие), двигатель внутреннего сгорания, паровая турбина, бытовой холодильник, кондиционер, технологии получения современных материалов, в том числе наноматериалов, и нанотехнологии, электростатическая защита, заземление электроприборов, ксерокс, струйный принтер, электронагревательные приборы, электроосветительные приборы, гальваника.

11 КЛАСС

Раздел 4. Электродинамика

Тема 3. Магнитное поле. Электромагнитная индукция

Постоянные магниты. Взаимодействие постоянных магнитов. Магнитное поле. Вектор магнитной индукции. Принцип суперпозиции магнитных полей. Линии магнитной индукции. Картина линий магнитной индукции поля постоянных магнитов.

Магнитное поле проводника с током. Картина линий индукции магнитного поля длинного прямого проводника и замкнутого кольцевого проводника, катушки с током. Опыт Эрстеда. Взаимодействие проводников с током.

Сила Ампера, её модуль и направление.

Сила Лоренца, её модуль и направление. Движение заряженной частицы в однородном магнитном поле. Работа силы Лоренца.

Явление электромагнитной индукции. Поток вектора магнитной индукции. Электродвижущая сила индукции. Закон электромагнитной индукции Фарадея.

Вихревое электрическое поле. Электродвижущая сила индукции в проводнике, движущемся поступательно в однородном магнитном поле.

Правило Ленца.

Индуктивность. Явление самоиндукции. Электродвижущая сила самоиндукции.

Энергия магнитного поля катушки с током.

Электромагнитное поле.

Технические устройства и практическое применение: постоянные магниты, электромагниты, электродвигатель, ускорители элементарных частиц, индукционная печь.

Демонстрации

Опыт Эрстеда.

Отклонение электронного пучка магнитным полем.

Линии индукции магнитного поля.

Взаимодействие двух проводников с током.

Сила Ампера.

Действие силы Лоренца на ионы электролита.

Явление электромагнитной индукции.

Правило Ленца.

Зависимость электродвижущей силы индукции от скорости изменения магнитного потока.

Явление самоиндукции.

Ученический эксперимент, лабораторные работы

Изучение магнитного поля катушки с током.

Исследование действия постоянного магнита на рамку с током.

Исследование явления электромагнитной индукции.

Раздел 5. Колебания и волны

Тема 1. Механические и электромагнитные колебания

Колебательная система. Свободные механические колебания. Гармонические колебания. Период, частота, амплитуда и фаза колебаний. Пружинный маятник. Математический маятник. Уравнение гармонических колебаний. Превращение энергии при гармонических колебаниях.

Колебательный контур. Свободные электромагнитные колебания в идеальном колебательном контуре. Аналогия между механическими и электромагнитными колебаниями. Формула Томсона. Закон сохранения энергии в идеальном колебательном контуре.

Представление о затухающих колебаниях. Вынужденные механические колебания. Резонанс. Вынужденные электромагнитные колебания.

Переменный ток. Синусоидальный переменный ток. Мощность переменного тока. Амплитудное и действующее значение силы тока и напряжения.

Трансформатор. Производство, передача и потребление электрической энергии. Экологические риски при производстве электроэнергии. Культура использования электроэнергии в повседневной жизни.

Технические устройства и практическое применение: электрический звонок, генератор переменного тока, линии электропередач.

Демонстрации

Исследование параметров колебательной системы (пружинный или математический маятник).

Наблюдение затухающих колебаний.

Исследование свойств вынужденных колебаний.

Наблюдение резонанса.

Свободные электромагнитные колебания.

Осциллограммы (зависимости силы тока и напряжения от времени) для электромагнитных колебаний.

Резонанс при последовательном соединении резистора, катушки индуктивности и конденсатора.

Модель линии электропередачи.

Ученический эксперимент, лабораторные работы

Исследование зависимости периода малых колебаний груза на нити от длины нити и массы груза.

Исследование переменного тока в цепи из последовательно соединённых конденсатора, катушки и резистора.

Тема 2. Механические и электромагнитные волны

Механические волны, условия распространения. Период. Скорость распространения и длина волны. Поперечные и продольные волны. Интерференция и дифракция механических волн.

Звук. Скорость звука. Громкость звука. Высота тона. Тембр звука.

Электромагнитные волны. Условия излучения электромагнитных волн. Взаимная ориентация векторов E , B , V в электромагнитной волне. Свойства электромагнитных волн: отражение, преломление, поляризация, дифракция, интерференция. Скорость электромагнитных волн.

Шкала электромагнитных волн. Применение электромагнитных волн в технике и быту.

Принципы радиосвязи и телевидения. Радиолокация.

Электромагнитное загрязнение окружающей среды.

Технические устройства и практическое применение: музыкальные инструменты, ультразвуковая диагностика в технике и медицине, радар, радиоприёмник, телевизор, антенна, телефон, СВЧ-печь.

Демонстрации

Образование и распространение поперечных и продольных волн.

Колеблущееся тело как источник звука.

Наблюдение отражения и преломления механических волн.

Наблюдение интерференции и дифракции механических волн.

Звуковой резонанс.

Наблюдение связи громкости звука и высоты тона с амплитудой и частотой колебаний.

Исследование свойств электромагнитных волн: отражение, преломление, поляризация, дифракция, интерференция.

Тема 3. Оптика

Геометрическая оптика. Прямолинейное распространение света в однородной среде. Луч света. Точечный источник света.

Отражение света. Законы отражения света. Построение изображений в плоском зеркале.

Преломление света. Законы преломления света. Абсолютный показатель преломления. Полное внутреннее отражение. Предельный угол полного внутреннего отражения.

Дисперсия света. Сложный состав белого света. Цвет.

Собирающие и рассеивающие линзы. Тонкая линза. Фокусное расстояние и оптическая сила тонкой линзы. Построение изображений в собирающих и рассеивающих линзах. Формула тонкой линзы. Увеличение, даваемое линзой.

Пределы применимости геометрической оптики.

Волновая оптика. Интерференция света. Когерентные источники. Условия наблюдения максимумов и минимумов в интерференционной картине от двух синфазных когерентных источников.

Дифракция света. Дифракционная решётка. Условие наблюдения главных максимумов при падении монохроматического света на дифракционную решётку.

Поляризация света.

Технические устройства и практическое применение: очки, лупа, фотоаппарат, проекционный аппарат, микроскоп, телескоп, волоконная оптика, дифракционная решётка, поляриод.

Демонстрации

Прямолинейное распространение, отражение и преломление света. Оптические приборы.

Полное внутреннее отражение. Модель световода.

Исследование свойств изображений в линзах.

Модели микроскопа, телескопа.

Наблюдение интерференции света.

Наблюдение дифракции света.

Наблюдение дисперсии света.

Получение спектра с помощью призмы.

Получение спектра с помощью дифракционной решётки.

Наблюдение поляризации света.

Ученический эксперимент, лабораторные работы

Измерение показателя преломления стекла.
Исследование свойств изображений в линзах.
Наблюдение дисперсии света.

Раздел 6. Основы специальной теории относительности

Границы применимости классической механики. Постулаты специальной теории относительности: инвариантность модуля скорости света в вакууме, принцип относительности Эйнштейна.

Относительность одновременности. Замедление времени и сокращение длины.

Энергия и импульс релятивистской частицы.

Связь массы с энергией и импульсом релятивистской частицы. Энергия покоя.

Раздел 7. Квантовая физика

Тема 1. Элементы квантовой оптики

Фотоны. Формула Планка связи энергии фотона с его частотой. Энергия и импульс фотона.

Открытие и исследование фотоэффекта. опыты А. Г. Столетова. Законы фотоэффекта. Уравнение Эйнштейна для фотоэффекта. «Красная граница» фотоэффекта.

Давление света. опыты П. Н. Лебедева.

Химическое действие света.

Технические устройства и практическое применение: фотоэлемент, фотодатчик, солнечная батарея, светодиод.

Демонстрации

Фотоэффект на установке с цинковой пластиной.

Исследование законов внешнего фотоэффекта.

Светодиод.

Солнечная батарея.

Тема 2. Строение атома

Модель атома Томсона. опыты Резерфорда по рассеянию α -частиц. Планетарная модель атома. Постулаты Бора. Излучение и поглощение фотонов при переходе атома с одного уровня энергии на другой. Виды спектров. Спектр уровней энергии атома водорода.

Волновые свойства частиц. Волны де Бройля. Корпускулярно-волновой дуализм.

Спонтанное и вынужденное излучение.

Технические устройства и практическое применение: спектральный анализ (спектроскоп), лазер, квантовый компьютер.

Демонстрации

Модель опыта Резерфорда.

Определение длины волны лазера.

Наблюдение линейчатых спектров излучения.

Лазер.

Ученический эксперимент, лабораторные работы

Наблюдение линейчатого спектра.

Тема 3. Атомное ядро

Эксперименты, доказывающие сложность строения ядра. Открытие радиоактивности. Опыты Резерфорда по определению состава радиоактивного излучения. Свойства альфа-, бета-, гамма-излучения. Влияние радиоактивности на живые организмы.

Открытие протона и нейтрона. Нуклонная модель ядра Гейзенберга–Иваненко. Заряд ядра. Массовое число ядра. Изотопы.

Альфа-распад. Электронный и позитронный бета-распад. Гамма-излучение. Закон радиоактивного распада.

Энергия связи нуклонов в ядре. Ядерные силы. Дефект массы ядра.

Ядерные реакции. Деление и синтез ядер.

Ядерный реактор. Термоядерный синтез. Проблемы и перспективы ядерной энергетики. Экологические аспекты ядерной энергетики.

Элементарные частицы. Открытие позитрона.

Методы наблюдения и регистрации элементарных частиц.

Фундаментальные взаимодействия. Единство физической картины мира.

Технические устройства и практическое применение: дозиметр, камера Вильсона, ядерный реактор, атомная бомба.

Демонстрации

Счётчик ионизирующих частиц.

Ученический эксперимент, лабораторные работы

Исследование треков частиц (по готовым фотографиям).

Раздел 8. Элементы астрономии и астрофизики

Этапы развития астрономии. Прикладное и мировоззренческое значение астрономии.

Вид звёздного неба. Созвездия, яркие звёзды, планеты, их видимое движение.

Солнечная система.

Солнце. Солнечная активность. Источник энергии Солнца и звёзд. Звёзды, их основные характеристики. Диаграмма «спектральный класс – светимость». Звёзды главной последовательности. Зависимость «масса – светимость» для звёзд главной последовательности. Внутреннее строение

звёзд. Современные представления о происхождении и эволюции Солнца и звёзд. Этапы жизни звёзд.

Млечный Путь – наша Галактика. Положение и движение Солнца в Галактике. Типы галактик. Радиогалактики и квазары. Чёрные дыры в ядрах галактик.

Вселенная. Расширение Вселенной. Закон Хаббла. Разбегание галактик. Теория Большого взрыва. Реликтовое излучение.

Масштабная структура Вселенной. Метагалактика.

Нерешённые проблемы астрономии.

Ученические наблюдения

Наблюдения невооружённым глазом с использованием компьютерных приложений для определения положения небесных объектов на конкретную дату: основные созвездия Северного полушария и яркие звёзды.

Наблюдения в телескоп Луны, планет, Млечного Пути.

Обобщающее повторение

Роль физики и астрономии в экономической, технологической, социальной и этической сферах деятельности человека, роль и место физики и астрономии в современной научной картине мира, роль физической теории в формировании представлений о физической картине мира, место физической картины мира в общем ряду современных естественно-научных представлений о природе.

Межпредметные связи

Изучение курса физики базового уровня в 11 классе осуществляется с учётом содержательных межпредметных связей с курсами математики, биологии, химии, географии и технологии.

Межпредметные понятия, связанные с изучением методов научного познания: явление, научный факт, гипотеза, физическая величина, закон, теория, наблюдение, эксперимент, моделирование, модель, измерение.

Математика: решение системы уравнений, тригонометрические функции: синус, косинус, тангенс, котангенс, основное тригонометрическое тождество, векторы и их проекции на оси координат, сложение векторов, производные элементарных функций, признаки подобия треугольников, определение площади плоских фигур и объёма тел.

Биология: электрические явления в живой природе, колебательные движения в живой природе, оптические явления в живой природе, действие радиации на живые организмы.

Химия: строение атомов и молекул, кристаллическая структура твёрдых тел, механизмы образования кристаллической решётки, спектральный анализ.

География: магнитные полюса Земли, залежи магнитных руд, фотосъёмка земной поверхности, предсказание землетрясений.

Технология: линии электропередач, генератор переменного тока, электродвигатель, индукционная печь, радар, радиоприёмник, телевизор, антенна, телефон, СВЧ-печь, проекционный аппарат, волоконная оптика, солнечная батарея.

ПЛАНИРУЕМЫЕ РЕЗУЛЬТАТЫ ОСВОЕНИЯ ПРОГРАММЫ ПО ФИЗИКЕ НА УРОВНЕ СРЕДНЕГО ОБЩЕГО ОБРАЗОВАНИЯ

Освоение учебного предмета «Физика» на уровне среднего общего образования (базовый уровень) должно обеспечить достижение следующих личностных, метапредметных и предметных образовательных результатов.

ЛИЧНОСТНЫЕ РЕЗУЛЬТАТЫ

Личностные результаты освоения учебного предмета «Физика» должны отражать готовность и способность обучающихся руководствоваться сформированной внутренней позицией личности, системой ценностных ориентаций, позитивных внутренних убеждений, соответствующих традиционным ценностям российского общества, расширение жизненного опыта и опыта деятельности в процессе реализации основных направлений воспитательной деятельности, в том числе в части:

1) гражданского воспитания:

сформированность гражданской позиции обучающегося как активного и ответственного члена российского общества;

принятие традиционных общечеловеческих гуманистических и демократических ценностей;

готовность вести совместную деятельность в интересах гражданского общества, участвовать в самоуправлении в образовательной организации;

умение взаимодействовать с социальными институтами в соответствии с их функциями и назначением;

готовность к гуманитарной и волонтерской деятельности;

2) патриотического воспитания:

сформированность российской гражданской идентичности, патриотизма;

ценностное отношение к государственным символам, достижениям российских учёных в области физики и техники;

3) духовно-нравственного воспитания:

сформированность нравственного сознания, этического поведения;

способность оценивать ситуацию и принимать осознанные решения, ориентируясь на морально-нравственные нормы и ценности, в том числе в деятельности учёного;

осознание личного вклада в построение устойчивого будущего;

4) эстетического воспитания:

эстетическое отношение к миру, включая эстетику научного творчества, присущего физической науке;

5)трудового воспитания:

интерес к различным сферам профессиональной деятельности, в том числе связанным с физикой и техникой, умение совершать осознанный выбор будущей профессии и реализовывать собственные жизненные планы;

готовность и способность к образованию и самообразованию в области физики на протяжении всей жизни;

б)экологического воспитания:

сформированность экологической культуры, осознание глобального характера экологических проблем;

планирование и осуществление действий в окружающей среде на основе знания целей устойчивого развития человечества;

расширение опыта деятельности экологической направленности на основе имеющихся знаний по физике;

7)ценности научного познания:

сформированность мировоззрения, соответствующего современному уровню развития физической науки;

осознание ценности научной деятельности, готовность в процессе изучения физики осуществлять проектную и исследовательскую деятельность индивидуально и в группе.

МЕТАПРЕДМЕТНЫЕ РЕЗУЛЬТАТЫ

Познавательные универсальные учебные действия

Базовые логические действия:

самостоятельно формулировать и актуализировать проблему, рассматривать её всесторонне;

определять цели деятельности, задавать параметры и критерии их достижения;

выявлять закономерности и противоречия в рассматриваемых физических явлениях;

разрабатывать план решения проблемы с учётом анализа имеющихся материальных и нематериальных ресурсов;

вносить коррективы в деятельность, оценивать соответствие результатов целям, оценивать риски последствий деятельности;

координировать и выполнять работу в условиях реального, виртуального и комбинированного взаимодействия;

развивать креативное мышление при решении жизненных проблем.

Базовые исследовательские действия:

владеть научной терминологией, ключевыми понятиями и методами физической науки;

владеть навыками учебно-исследовательской и проектной деятельности в области физики, способностью и готовностью к самостоятельному поиску методов решения задач физического содержания, применению различных методов познания;

владеть видами деятельности по получению нового знания, его интерпретации, преобразованию и применению в различных учебных ситуациях, в том числе при создании учебных проектов в области физики;

выявлять причинно-следственные связи и актуализировать задачу, выдвигать гипотезу её решения, находить аргументы для доказательства своих утверждений, задавать параметры и критерии решения;

анализировать полученные в ходе решения задачи результаты, критически оценивать их достоверность, прогнозировать изменение в новых условиях;

ставить и формулировать собственные задачи в образовательной деятельности, в том числе при изучении физики;

давать оценку новым ситуациям, оценивать приобретённый опыт;

уметь переносить знания по физике в практическую область жизнедеятельности;

уметь интегрировать знания из разных предметных областей;

выдвигать новые идеи, предлагать оригинальные подходы и решения;

ставить проблемы и задачи, допускающие альтернативные решения.

Работа с информацией:

владеть навыками получения информации физического содержания из источников разных типов, самостоятельно осуществлять поиск, анализ, систематизацию и интерпретацию информации различных видов и форм представления;

оценивать достоверность информации;

использовать средства информационных и коммуникационных технологий в решении когнитивных, коммуникативных и организационных задач с соблюдением требований эргономики, техники безопасности, гигиены, ресурсосбережения, правовых и этических норм, норм информационной безопасности;

создавать тексты физического содержания в различных форматах с учётом назначения информации и целевой аудитории, выбирая оптимальную форму представления и визуализации.

Коммуникативные универсальные учебные действия:

осуществлять общение на уроках физики и во вне-урочной деятельности;

распознавать предпосылки конфликтных ситуаций и смягчать конфликты;

развёрнуто и логично излагать свою точку зрения с использованием языковых средств;

понимать и использовать преимущества командной и индивидуальной работы;

выбирать тематику и методы совместных действий с учётом общих интересов и возможностей каждого члена коллектива;

принимать цели совместной деятельности, организовывать и координировать действия по её достижению: составлять план действий, распределять роли с учётом мнений участников, обсуждать результаты совместной работы;

оценивать качество своего вклада и каждого участника команды в общий результат по разработанным критериям;

предлагать новые проекты, оценивать идеи с позиции новизны, оригинальности, практической значимости;

осуществлять позитивное стратегическое поведение в различных ситуациях, проявлять творчество и воображение, быть инициативным.

Регулятивные универсальные учебные действия

Самоорганизация:

самостоятельно осуществлять познавательную деятельность в области физики и астрономии, выявлять проблемы, ставить и формулировать собственные задачи;

самостоятельно составлять план решения расчётных и качественных задач, план выполнения практической работы с учётом имеющихся ресурсов, собственных возможностей и предпочтений;

давать оценку новым ситуациям;

расширять рамки учебного предмета на основе личных предпочтений;

делать осознанный выбор, аргументировать его, брать на себя ответственность за решение;

оценивать приобретённый опыт;

способствовать формированию и проявлению эрудиции в области физики, постоянно повышать свой образовательный и культурный уровень.

Самоконтроль, эмоциональный интеллект:

давать оценку новым ситуациям, вносить коррективы в деятельность, оценивать соответствие результатов целям;

владеть навыками познавательной рефлексии как осознания совершаемых действий и мыслительных процессов, их результатов и оснований;

использовать приёмы рефлексии для оценки ситуации, выбора верного решения;

уметь оценивать риски и своевременно принимать решения по их снижению;

принимать мотивы и аргументы других при анализе результатов деятельности;

принимать себя, понимая свои недостатки и достоинства;

принимать мотивы и аргументы других при анализе результатов деятельности;

признавать своё право и право других на ошибки.

В процессе достижения личностных результатов освоения программы по физике для уровня среднего общего образования у обучающихся совершенствуется эмоциональный интеллект, предполагающий сформированность:

самосознания, включающего способность понимать своё эмоциональное состояние, видеть направления развития собственной эмоциональной сферы, быть уверенным в себе;

саморегулирования, включающего самоконтроль, умение принимать ответственность за своё поведение, способность адаптироваться к эмоциональным изменениям и проявлять гибкость, быть открытым новому;

внутренней мотивации, включающей стремление к достижению цели и успеху, оптимизм, инициативность, умение действовать исходя из своих возможностей;

эмпатии, включающей способность понимать эмоциональное состояние других, учитывать его при осуществлении общения, способность к сочувствию и сопереживанию;

социальных навыков, включающих способность выстраивать отношения с другими людьми, заботиться, проявлять интерес и разрешать конфликты.

ПРЕДМЕТНЫЕ РЕЗУЛЬТАТЫ

К концу обучения в 10 классе предметные результаты на базовом уровне должны отражать сформированность у обучающихся умений:

демонстрировать на примерах роль и место физики в формировании современной научной картины мира, в развитии современной техники и технологий, в практической деятельности людей;

учитывать границы применения изученных физических моделей: материальная точка, инерциальная система отсчёта, абсолютно твёрдое тело, идеальный газ, модели строения газов, жидкостей и твёрдых тел, точечный электрический заряд при решении физических задач;

распознавать физические явления (процессы) и объяснять их на основе законов механики, молекулярно-кинетической теории строения вещества и электродинамики: равномерное и равноускоренное прямолинейное движение, свободное падение тел, движение по окружности, инерция, взаимодействие тел, диффузия, броуновское движение, строение жидкостей и твёрдых тел, изменение объёма тел при нагревании (охлаждении), тепловое равновесие, испарение, конденсация, плавление, кристаллизация, кипение, влажность воздуха, повышение давления газа при его нагревании в закрытом сосуде, связь между параметрами состояния газа в изопроцессах, электризация тел, взаимодействие зарядов;

описывать механическое движение, используя физические величины: координата, путь, перемещение, скорость, ускорение, масса тела, сила, импульс тела, кинетическая энергия, потенциальная энергия, механическая работа, механическая мощность; при описании правильно трактовать физический смысл используемых величин, их обозначения и единицы, находить формулы, связывающие данную физическую величину с другими величинами;

описывать изученные тепловые свойства тел и тепловые явления, используя физические величины: давление газа, температура, средняя кинетическая энергия хаотического движения молекул, среднеквадратичная скорость молекул, количество теплоты, внутренняя энергия, работа газа, коэффициент полезного действия теплового двигателя; при описании правильно трактовать физический смысл используемых величин, их обозначения и единицы, находить формулы, связывающие данную физическую величину с другими величинами;

описывать изученные электрические свойства вещества и электрические явления (процессы), используя физические величины: электрический заряд, электрическое поле, напряжённость поля, потенциал, разность потенциалов; при описании правильно трактовать физический смысл используемых величин, их обозначения и единицы; указывать формулы, связывающие данную физическую величину с другими величинами;

анализировать физические процессы и явления, используя физические законы и принципы: закон всемирного тяготения, I, II и III законы Ньютона, закон сохранения механической энергии, закон сохранения импульса, принцип суперпозиции сил, принцип равноправия инерциальных систем отсчёта, молекулярно-кинетическую теорию строения вещества, газовые законы, связь средней кинетической энергии теплового движения молекул с абсолютной температурой, первый закон термодинамики, закон сохранения электрического заряда, закон Кулона, при этом различать словесную

формулировку закона, его математическое выражение и условия (границы, области) применимости;

объяснять основные принципы действия машин, приборов и технических устройств; различать условия их безопасного использования в повседневной жизни;

выполнять эксперименты по исследованию физических явлений и процессов с использованием прямых и косвенных измерений, при этом формулировать проблему/задачу и гипотезу учебного эксперимента, собирать установку из предложенного оборудования, проводить опыт и формулировать выводы;

осуществлять прямые и косвенные измерения физических величин, при этом выбирать оптимальный способ измерения и использовать известные методы оценки погрешностей измерений;

исследовать зависимости между физическими величинами с использованием прямых измерений, при этом конструировать установку, фиксировать результаты полученной зависимости физических величин в виде таблиц и графиков, делать выводы по результатам исследования;

соблюдать правила безопасного труда при проведении исследований в рамках учебного эксперимента, учебно-исследовательской и проектной деятельности с использованием измерительных устройств и лабораторного оборудования;

решать расчётные задачи с явно заданной физической моделью, используя физические законы и принципы, на основе анализа условия задачи выбирать физическую модель, выделять физические величины и формулы, необходимые для её решения, проводить расчёты и оценивать реальность полученного значения физической величины;

решать качественные задачи: выстраивать логически непротиворечивую цепочку рассуждений с опорой на изученные законы, закономерности и физические явления;

использовать при решении учебных задач современные информационные технологии для поиска, структурирования, интерпретации и представления учебной и научно-популярной информации, полученной из различных источников, критически анализировать получаемую информацию;

приводить примеры вклада российских и зарубежных учёных-физиков в развитие науки, объяснение процессов окружающего мира, в развитие техники и технологий;

использовать теоретические знания по физике в повседневной жизни для обеспечения безопасности при обращении с приборами и техническими

устройствами, для сохранения здоровья и соблюдения норм экологического поведения в окружающей среде;

работать в группе с выполнением различных социальных ролей, планировать работу группы, рационально распределять обязанности и планировать деятельность в нестандартных ситуациях, адекватно оценивать вклад каждого из участников группы в решение рассматриваемой проблемы.

К концу обучения **в 11 классе** предметные результаты на базовом уровне должны отражать сформированность у обучающихся умений:

демонстрировать на примерах роль и место физики в формировании современной научной картины мира, в развитии современной техники и технологий, в практической деятельности людей, целостность и единство физической картины мира;

учитывать границы применения изученных физических моделей: точечный электрический заряд, луч света, точечный источник света, ядерная модель атома, нуклонная модель атомного ядра при решении физических задач;

распознавать физические явления (процессы) и объяснять их на основе законов электродинамики и квантовой физики: электрическая проводимость, тепловое, световое, химическое, магнитное действия тока, взаимодействие магнитов, электромагнитная индукция, действие магнитного поля на проводник с током и движущийся заряд, электромагнитные колебания и волны, прямолинейное распространение света, отражение, преломление, интерференция, дифракция и поляризация света, дисперсия света, фотоэлектрический эффект (фотоэффект), световое давление, возникновение линейчатого спектра атома водорода, естественная и искусственная радиоактивность;

описывать изученные свойства вещества (электрические, магнитные, оптические, электрическую проводимость различных сред) и электромагнитные явления (процессы), используя физические величины: электрический заряд, сила тока, электрическое напряжение, электрическое сопротивление, разность потенциалов, электродвижущая сила, работа тока, индукция магнитного поля, сила Ампера, сила Лоренца, индуктивность катушки, энергия электрического и магнитного полей, период и частота колебаний в колебательном контуре, заряд и сила тока в процессе гармонических электромагнитных колебаний, фокусное расстояние и оптическая сила линзы, при описании правильно трактовать физический смысл используемых величин, их обозначения и единицы, указывать формулы, связывающие данную физическую величину с другими величинами;

описывать изученные квантовые явления и процессы, используя физические величины: скорость электромагнитных волн, длина волны и частота света, энергия и импульс фотона, период полураспада, энергия связи атомных ядер, при описании правильно трактовать физический смысл используемых величин, их обозначения и единицы, указывать формулы, связывающие данную физическую величину с другими величинами, вычислять значение физической величины;

анализировать физические процессы и явления, используя физические законы и принципы: закон Ома, законы последовательного и параллельного соединения проводников, закон Джоуля–Ленца, закон электромагнитной индукции, закон прямолинейного распространения света, законы отражения света, законы преломления света, уравнение Эйнштейна для фотоэффекта, закон сохранения энергии, закон сохранения импульса, закон сохранения электрического заряда, закон сохранения массового числа, постулаты Бора, закон радиоактивного распада, при этом различать словесную формулировку закона, его математическое выражение и условия (границы, области) применимости;

определять направление вектора индукции магнитного поля проводника с током, силы Ампера и силы Лоренца;

строить и описывать изображение, создаваемое плоским зеркалом, тонкой линзой;

выполнять эксперименты по исследованию физических явлений и процессов с использованием прямых и косвенных измерений: при этом формулировать проблему/задачу и гипотезу учебного эксперимента, собирать установку из предложенного оборудования, проводить опыт и формулировать выводы;

осуществлять прямые и косвенные измерения физических величин, при этом выбирать оптимальный способ измерения и использовать известные методы оценки погрешностей измерений;

исследовать зависимости физических величин с использованием прямых измерений: при этом конструировать установку, фиксировать результаты полученной зависимости физических величин в виде таблиц и графиков, делать выводы по результатам исследования;

соблюдать правила безопасного труда при проведении исследований в рамках учебного эксперимента, учебно-исследовательской и проектной деятельности с использованием измерительных устройств и лабораторного оборудования;

решать расчётные задачи с явно заданной физической моделью, используя физические законы и принципы, на основе анализа условия задачи

выбирать физическую модель, выделять физические величины и формулы, необходимые для её решения, проводить расчёты и оценивать реальность полученного значения физической величины;

решать качественные задачи: выстраивать логически непротиворечивую цепочку рассуждений с опорой на изученные законы, закономерности и физические явления;

использовать при решении учебных задач современные информационные технологии для поиска, структурирования, интерпретации и представления учебной и научно-популярной информации, полученной из различных источников, критически анализировать получаемую информацию;

объяснять принципы действия машин, приборов и технических устройств, различать условия их безопасного использования в повседневной жизни;

приводить примеры вклада российских и зарубежных учёных-физиков в развитие науки, в объяснение процессов окружающего мира, в развитие техники и технологий;

использовать теоретические знания по физике в повседневной жизни для обеспечения безопасности при обращении с приборами и техническими устройствами, для сохранения здоровья и соблюдения норм экологического поведения в окружающей среде;

работать в группе с выполнением различных социальных ролей, планировать работу группы, рационально распределять обязанности и планировать деятельность в нестандартных ситуациях, адекватно оценивать вклад каждого из участников группы в решение рассматриваемой проблемы.

Используемые формы, способы и средства проверки и оценки образовательных

При оценке ответов учащихся учитываются следующие знания:

- физических явлениях:
 - признаки явления, по которым оно обнаруживается;
 - условия, при которых протекает явление;
 - связь данного явления с другими;
 - объяснение явления на основе научной теории;
 - примеры учета и использования его на практике; о физических опытах:
 - цель, схема, условия, при которых осуществлялся опыт, ход и результаты опыта;
- физических понятиях, в том числе и о физических величинах:

- явления или свойства, которые характеризуются данным понятием (величиной);
- определение понятия (величины);
- формулы, связывающие данную величину с другими;
- единицы физической величины;
- способы измерения величины;
- о законах:
 - формулировка и математическое выражение закона;
 - опыты, подтверждающие его справедливость;
 - примеры учета и применения на практике;
 - о физических теориях:
 - опытное обоснование теории;
 - основные понятия, положения, законы, принципы;
 - основные следствия;
 - практические применения;
- приборах, механизмах, машинах:
 - назначение;
 - принцип действия и схема устройства;
 - применение и правила пользования прибором.

Следует учитывать, что в конкретных случаях не все требования могут быть предъявлены учащимся, например знание границ применимости законов и теорий, так как эти границы не всегда рассматриваются в курсе физики средней школы.

Предусмотрено проведение контрольных и самостоятельных работ, лабораторных работы.

Оценке подлежат умения:

- применять понятия, законы и теории для объяснения явлений природы и техники;
- самостоятельно работать с учебником;
- решать задачи на основе известных законов и формул;
- пользоваться справочными таблицами физических величин.

Оценка ответов учащихся

1. Оценка устных ответов учащихся.

Оценка 5 ставится в том случае, если учащийся показывает верное понимание физической сущности рассматриваемых явлений и закономерностей, законов и теорий, дает точное определение и истолкование основных понятий и законов, теорий, а также правильное определение физических величин, их единиц и способов измерения; правильно выполняет чертежи, схемы и графики; строит ответ по собственному плану, сопровождает рассказ новыми примерами, умеет применять знания в новой ситуации при выполнении практических заданий; может устанавливать связь между изучаемым и ранее изученным материалом по курсу физики, а также с материалом усвоенным при изучении других предметов.

Оценка 4 ставится в том случае, если ответ ученика удовлетворяет основным требованиям к ответу на оценку 5, но без использования собственного плана, новых примеров, без применения знаний в новой ситуации, без использования связей с ранее изученным материалом, усвоенным при изучении других предметов; если учащийся допустил одну ошибку или не более двух недочетов и может исправить их самостоятельно или с небольшой помощью учителя.

Оценка 3 ставится в том случае, если учащийся правильно понимает физическую сущность рассматриваемых явлений и закономерностей, но в ответе имеются отдельные пробелы в усвоении вопросов курса физики, не препятствующие дальнейшему усвоению программного материала; испытывает затруднения в применении знаний при объяснении конкретных физических явлений на основе теории и законов, или в подтверждении конкретных примеров практического применения теории; умеет применять полученные знания при решении простых задач с использованием готовых формул, но затрудняется при решении задач, требующих преобразования некоторых формул; отвечает неполно на вопросы учителя (упуская и основное), или воспроизводит содержание текста учебника, но недостаточно понимает отдельные положения, имеющие важное значение в этом тексте; допустил не более одной грубой и одной негрубой ошибки, не более двух-трех негрубых недочетов.

Оценка 2 ставится в том случае, если учащийся не овладел основными знаниями в соответствии с требованиями и допустил больше ошибок и недочетов, чем необходимо для оценки 3.

2. Оценка письменных самостоятельных и контрольных работ.

Оценка 5 ставится за работу, выполненную полностью без ошибок и недочетов или имеющую не более одного недочета.

Оценка 4 ставится за работу, выполненную полностью, но при наличии в ней не более одной негрубой ошибки и одного недочета или не более трех недочетов.

Оценка 3 ставится за работу, выполненную не менее половины всей работы или при допущении не более двух грубых ошибок, или не более одной грубой ошибки и одного недочета, или не более двух-трех негрубых ошибок, или одной негрубой ошибки и более трех недочетов, или при отсутствии ошибок, но при наличии 4-5 недочетов.

Оценка 2 ставится за работу, в которой число ошибок и недочетов превосходит норму, при которой может быть выставлена оценка «3», или если правильно выполнено менее половины работы.

3. Оценка лабораторных и практических работ.

Оценка 5 ставится в том случае, если учащийся выполнил работу в полном объеме с соблюдением необходимой последовательности проведения опытов и измерений; самостоятельно и рационально монтирует необходимое оборудование; все опыты проводит в условиях и режимах, обеспечивающих получение правильных результатов и выводов; соблюдает требования правил безопасного труда; в отчете правильно и аккуратно выполняет все записи, таблицы, рисунки, чертежи, графики, вычисления, правильно выполняет анализ погрешностей.

Оценка 4 ставится в том случае, если учащийся выполнил работу в соответствии с требованиями к оценке 5, но допустил два-три недочета, не более одной негрубой ошибки и одного недочета.

Оценка 3 ставится в том случае, если учащийся выполнил работу не полностью, но объем выполненной части таков, что позволяет получить правильные результаты и выводы, если в ходе проведения опыта и измерений были допущены ошибки.

Оценка 2 ставится в том случае, если учащийся выполнил работу не полностью и объем выполненной работы не позволяет сделать правильные выводы, вычисления; наблюдения проводились неправильно.

4. Оценка тестовых работ.

Оценка 5 ставится в том случае, если учащийся выполнил работу в полном объеме на 100%.

Оценка 4 ставится в том случае, если учащийся выполнил работу в объеме 80-99%.

Оценка 3 ставится в том случае, если учащийся выполнил работу в объеме 60-79%.

Оценка 2 ставится в том случае, если учащийся выполнил работу в объеме 11-59%.

5. Перечень ошибок.

Грубые ошибки.

1. Незнание определений основных понятий, законов, правил, положений теории, формул, общепринятых символов, обозначения физических величин, единицу измерения.
2. Неумение выделять в ответе главное.
3. Неумение применять знания для решения задач и объяснения физических явлений; неправильно сформулированные вопросы, задания или неверные объяснения хода их решения, незнание приемов решения задач, аналогичных ранее решенным в классе; ошибки, показывающие неправильное понимание условия задачи или неправильное истолкование решения.
4. Неумение читать и строить графики и принципиальные схемы
5. Неумение подготовить к работе установку или лабораторное оборудование, провести опыт, необходимые расчеты или использовать полученные данные для выводов.
6. Небрежное отношение к лабораторному оборудованию и измерительным приборам.
7. Неумение определить показания измерительного прибора.
8. Нарушение требований правил безопасного труда при выполнении эксперимента.

Негрубые ошибки.

1.Неточности формулировок, определений, законов, теорий, вызванных неполнотой ответа основных признаков определяемого понятия. Ошибки, вызванные несоблюдением условий проведения опыта или измерений.

2.Ошибки в условных обозначениях на принципиальных схемах, неточности чертежей, графиков, схем.

3.Пропуск или неточное написание наименований единиц физических величин.

4.Нерациональный выбор хода решения.

Недочеты.

1.Нерациональные записи при вычислениях, нерациональные приемы вычислений, преобразований и решения задач.

2.Арифметические ошибки в вычислениях, если эти ошибки грубо не искажают реальность полученного результата.

3.Отдельные погрешности в формулировке вопроса или ответа.

4.Небрежное выполнение записей, чертежей, схем, графиков.

5.Орфографические и пунктуационные ошибки.

ТЕМАТИЧЕСКОЕ ПЛАНИРОВАНИЕ

10 КЛАСС

№ п/п	Наименование разделов и тем программы	Количество часов			Электронные (цифровые) образовательные ресурсы
		Всего	Контрольные работы	Практические работы	
Раздел 1. ФИЗИКА И МЕТОДЫ НАУЧНОГО ПОЗНАНИЯ					
1.1	Физика и методы научного познания	2			Библиотека ЦОК https://m.edsoo.ru/7f41bf72
Итого по разделу		2			
Раздел 2. МЕХАНИКА					
2.1	Кинематика	5			Библиотека ЦОК https://m.edsoo.ru/7f41bf72
2.2	Динамика	7			Библиотека ЦОК https://m.edsoo.ru/7f41bf72
2.3	Законы сохранения в механике	6	1	1	Библиотека ЦОК https://m.edsoo.ru/7f41bf72
Итого по разделу		18			
Раздел 3. МОЛЕКУЛЯРНАЯ ФИЗИКА И ТЕРМОДИНАМИКА					
3.1	Основы молекулярно-кинетической теории	9		1	Библиотека ЦОК https://m.edsoo.ru/7f41bf72
3.2	Основы термодинамики	10	1		Библиотека ЦОК https://m.edsoo.ru/7f41bf72
3.3	Агрегатные состояния вещества. Фазовые переходы	5			Библиотека ЦОК https://m.edsoo.ru/7f41bf72
Итого по разделу		24			

Раздел 4. ЭЛЕКТРОДИНАМИКА					
4.1	Электростатика	10		1	Библиотека ЦОК https://m.edsoo.ru/7f41bf72
4.2	Постоянный электрический ток. Токи в различных средах	12	1		Библиотека ЦОК https://m.edsoo.ru/7f41bf72
Итого по разделу		22			
Резервное время		2			
ОБЩЕЕ КОЛИЧЕСТВО ЧАСОВ ПО ПРОГРАММЕ		68	3	3	

11 КЛАСС

№ п/ п	Наименование разделов и тем программы	Количество часов			Электронные (цифровые) образовательные ресурсы
		Всего	Контрольные работы	Практические работы	
Раздел 1. ЭЛЕКТРОДИНАМИКА					
1.1	Магнитное поле. Электромагнитная индукция	11	1	3	Библиотека ЦОК https://m.edsoo.ru/7f41c97c
Итого по разделу		11			
Раздел 2. КОЛЕБАНИЯ И ВОЛНЫ					
2.1	Механические и электромагнитные колебания	9		1	Библиотека ЦОК https://m.edsoo.ru/7f41c97c
2.2	Механические и электромагнитные волны	5	1		Библиотека ЦОК https://m.edsoo.ru/7f41c97c
2.3	Оптика	10		3	Библиотека ЦОК https://m.edsoo.ru/7f41c97c
Итого по разделу		24			
Раздел 3. ОСНОВЫ СПЕЦИАЛЬНОЙ ТЕОРИИ ОТНОСИТЕЛЬНОСТИ					
3.1	Основы специальной теории относительности	4	1		Библиотека ЦОК https://m.edsoo.ru/7f41c97c
Итого по разделу		4			
Раздел 4. КВАНТОВАЯ ФИЗИКА					
4.1	Элементы квантовой оптики	6			Библиотека ЦОК https://m.edsoo.ru/7f41c97c
4.2	Строение атома	4			Библиотека ЦОК

					https://m.edsoo.ru/7f41c97c
4.3	Атомноеядро	5			Библиотека ЦОК https://m.edsoo.ru/7f41c97c
Итогопоразделу		15			
Раздел 5.ЭЛЕМЕНТЫ АСТРОНОМИИ И АСТРОФИЗИКИ					
5.1	Элементыастрономии и астрофизики	7	1		Библиотека ЦОК https://m.edsoo.ru/7f41c97c
Итогопоразделу		7			
Раздел 6.ОБОБЩАЮЩЕЕ ПОВТОРЕНИЕ					
6.1	Обобщающеесповторение	4			Библиотека ЦОК https://m.edsoo.ru/7f41c97c
Итогопоразделу		4			
Резервноевремя		3			
ОБЩЕЕ КОЛИЧЕСТВО ЧАСОВ ПО ПРОГРАММЕ		68	4	7	

ПОУРОЧНОЕ ПЛАНИРОВАНИЕ

10 КЛАСС

№ п / п	Темаурока	Количествочасов			Датаизу чения	Электронныцифровыеобразов ательныересурсы
		Вс его	Контрольны еработы	Практически еработы		
1	Физика — наука о природе. Научные методы познания окружающего мира	1				Библиотека ЦОК https://m.edsoo.ru/ff0c32e2
2	Роль и место физики в формировании современной научной картины мира, в практической деятельности людей	1				Библиотека ЦОК https://m.edsoo.ru/ff0c33e6
3	Механическое движение. Относительность механического движения. Перемещение, скорость, ускорение	1				Библиотека ЦОК https://m.edsoo.ru/ff0c3508
4	Равномерноепрямолинейноедвиже ние	1				Библиотека ЦОК https://m.edsoo.ru/ff0c3620
5	Равноускоренноепрямолинейноед вижение	1				Библиотека ЦОК https://m.edsoo.ru/ff0c372e
6	Свободное падение. Ускорение свободного падения	1				Библиотека ЦОК https://m.edsoo.ru/ff0c39cc
7	Криволинейное движение. Движение материальной точки по окружности	1				Библиотека ЦОК https://m.edsoo.ru/ff0c3ada

8	Принцип относительности Галилея. Инерциальные системы отсчета. Первый закон Ньютона	1				Библиотека ЦОК https://m.edsoo.ru/ff0c3be8
9	Масса тела. Сила. Принцип суперпозиции сил. Второй закон Ньютона для материальной точки	1				Библиотека ЦОК https://m.edsoo.ru/ff0c3be8
10	Третий закон Ньютона для материальных точек	1				Библиотека ЦОК https://m.edsoo.ru/ff0c3be8
11	Закон всемирного тяготения. Сила тяжести. Первая космическая скорость	1				Библиотека ЦОК https://m.edsoo.ru/ff0c3d00
12	Сила упругости. Закон Гука. Вес тела	1				Библиотека ЦОК https://m.edsoo.ru/ff0c3e18
13	Сила трения. Коэффициент трения. Сила сопротивления при движении тела в жидкости или газе	1				Библиотека ЦОК https://m.edsoo.ru/ff0c3f76
14	Поступательное и вращательное движение абсолютно твёрдого тела. Момент силы. Плечо силы. Условия равновесия твёрдого тела	1				Библиотека ЦОК https://m.edsoo.ru/ff0c41a6
15	Импульс материальной точки, системы материальных точек. Импульс силы. Закон сохранения импульса. Реактивное движение	1				Библиотека ЦОК https://m.edsoo.ru/ff0c43d6
16	Работа и мощность силы. Кинетическая энергия материальной точки.	1				Библиотека ЦОК https://m.edsoo.ru/ff0c4502

	Теорема об изменении кинетической энергии					
17	Потенциальная энергия. Потенциальная энергия упруго деформированной пружины. Потенциальная энергия тел вблизи поверхности Земли	1				Библиотека ЦОК https://m.edsoo.ru/ff0c461a
18	Потенциальные и непотенциальные силы. Связь работы непотенциальных сил с изменением механической энергии системы тел. Закон сохранения механической энергии	1				Библиотека ЦОК https://m.edsoo.ru/ff0c478c
19	Лабораторная работа «Исследование связи работы силы с изменением механической энергии тела на примере растяжения резинового жгута»	1		1		
20	Контрольная работа по теме «Кинематика. Динамика. Законы сохранения в механике»	1	1			Библиотека ЦОК https://m.edsoo.ru/ff0c4b74
21	Основные положения молекулярно-кинетической теории. Броуновское движение. Диффузия	1				Библиотека ЦОК https://m.edsoo.ru/ff0c4dc2
22	Характер движения и взаимодействия частиц вещества. Модели строения газов,	1				

	жидкостей и твёрдых тел					
23	Масса молекул. Количество вещества. Постоянная Авогадро	1				
24	Тепловое равновесие. Температура и её измерение. Шкала температур Цельсия	1				
25	Идеальный газ в МКТ. Основное уравнение МКТ	1				Библиотека ЦОК https://m.edsoo.ru/ff0c4fde
26	Абсолютная температура как мера средней кинетической энергии движения молекул. Уравнение Менделеева-Клапейрона	1				Библиотека ЦОК https://m.edsoo.ru/ff0c511e
27	Закон Дальтона. Газовые законы	1				
28	Лабораторная работа «Исследование зависимости между параметрами состояния разреженного газа»	1		1		
29	Изопроцессы в идеальном газе и их графическое представление	1				Библиотека ЦОК https://m.edsoo.ru/ff0c570e
30	Внутренняя энергия термодинамической системы и способы её изменения. Количество теплоты и работа. Внутренняя энергия одноатомного идеального газа	1				Библиотека ЦОК https://m.edsoo.ru/ff0c5952
31	Виды теплопередачи	1				Библиотека ЦОК https://m.edsoo.ru/ff0c5c36

32	Удельная теплоёмкость вещества. Количество теплоты при теплопередаче. Адиабатный процесс	1				Библиотека ЦОК https://m.edsoo.ru/ff0c5c36
33	Первый закон термодинамики и его применение к изопротессам	1				Библиотека ЦОК https://m.edsoo.ru/ff0c5efc
34	Необратимость процессов в природе. Второй закон термодинамики	1				Библиотека ЦОК https://m.edsoo.ru/ff0c6230
35	Принцип действия и КПД тепловой машины	1				Библиотека ЦОК https://m.edsoo.ru/ff0c600a
36	Цикл Карно и его КПД	1				
37	Экологическиепроблемытеплоэне ргетики	1				
38	Обобщающий урок «Молекулярная физика. Основы термодинамики»	1				Библиотека ЦОК https://m.edsoo.ru/ff0c6938
39	Контрольная работа по теме «Молекулярная физика. Основытермодинамики»	1	1			Библиотека ЦОК https://m.edsoo.ru/ff0c6a50
40	Парообразование и конденсация. Испарение и кипение	1				Библиотека ЦОК https://m.edsoo.ru/ff0c63b6
41	Абсолютная и относительная влажность воздуха. Насыщенныйпар	1				Библиотека ЦОК https://m.edsoo.ru/ff0c64d8
42	Твёрдое тело. Кристаллические и аморфные тела. Анизотропия свойств кристаллов. Жидкие	1				Библиотека ЦОК https://m.edsoo.ru/ff0c65f0

	кристаллы. Современные материалы					
43	Плавление и кристаллизация. Удельная теплота плавления. Сублимация	1				Библиотека ЦОК https://m.edsoo.ru/ff0c6708
44	Уравнение теплового баланса	1				Библиотека ЦОК https://m.edsoo.ru/ff0c6820
45	Электризация тел. Электрический заряд. Два вида электрических зарядов	1				Библиотека ЦОК https://m.edsoo.ru/ff0c6bcc
46	Проводники, диэлектрики и полупроводники. Закон сохранения электрического заряда	1				Библиотека ЦОК https://m.edsoo.ru/ff0c6bcc
47	Взаимодействие зарядов. Закон Кулона. Точечный электрический заряд	1				Библиотека ЦОК https://m.edsoo.ru/ff0c6ce4
48	Напряжённость электрического поля. Принцип суперпозиции электрических полей. Линии напряжённости	1				Библиотека ЦОК https://m.edsoo.ru/ff0c6df2
49	Работа сил электростатического поля. Потенциал. Разность потенциалов	1				Библиотека ЦОК https://m.edsoo.ru/ff0c6f00
50	Проводники и диэлектрики в электростатическом поле. Диэлектрическая проницаемость	1				Библиотека ЦОК https://m.edsoo.ru/ff0c7018
51	Емкость. Конденсатор	1				Библиотека ЦОК https://m.edsoo.ru/ff0c7126

52	Электроёмкость плоского конденсатора. Энергия заряженного конденсатора	1				Библиотека ЦОК https://m.edsoo.ru/ff0c72c0
53	Лабораторная работа "Измерение электроёмкости конденсатора"	1		1		
54	Принцип действия и применение конденсаторов, копировального аппарата, струйного принтера. Электростатическая защита. Заземление электроприборов	1				
55	Электрический ток, условия его существования. Постоянный ток. Сила тока. Напряжение. Сопротивление. Закон Ома для участка цепи	1				
56	Последовательное, параллельное, смешанное соединение проводников. Лабораторная работа «Изучение смешанного соединения резисторов»	1				Библиотека ЦОК https://m.edsoo.ru/ff0c74f0
57	Работа и мощность электрического тока. Закон Джоуля-Ленца	1				Библиотека ЦОК https://m.edsoo.ru/ff0c7838
58	Закон Ома для полной (замкнутой) электрической цепи. Короткое замыкание. Лабораторная работа «Измерение ЭДС источника тока и его внутреннего сопротивления»	1				Библиотека ЦОК https://m.edsoo.ru/ff0c7ae0

59	Электронная проводимость твёрдых металлов. Зависимость сопротивления металлов от температуры. Сверхпроводимость	1				
60	Электрический ток в вакууме. Свойства электронных пучков	1				
61	Полупроводники, их собственная и примесная проводимость. Свойства p—n-перехода. Полупроводниковые приборы	1				Библиотека ЦОК https://m.edsoo.ru/ff0c84ae
62	Электрический ток в растворах и расплавах электролитов. Электролитическая диссоциация. Электролиз	1				Библиотека ЦОК https://m.edsoo.ru/ff0c82ba
63	Электрический ток в газах. Самостоятельный и несамостоятельный разряд. Молния. Плазма	1				Библиотека ЦОК https://m.edsoo.ru/ff0c84ae
64	Электрические приборы и устройства и их практическое применение. Правила техники безопасности	1				Библиотека ЦОК https://m.edsoo.ru/ff0c86fc
65	Обобщающий урок «Электродинамика»	1				Библиотека ЦОК https://m.edsoo.ru/ff0c88be
66	Контрольная работа по теме «Электростатика. Постоянный электрический ток. Токи в различных средах»	1	1			Библиотека ЦОК https://m.edsoo.ru/ff0c8a8a

67	Резервный урок. Контрольная работа по теме "Электродинамика"	1				Библиотека ЦОК https://m.edsoo.ru/ff0c8c56
68	Резервный урок. Обобщающий урок по темам 10 класса	1				Библиотека ЦОК https://m.edsoo.ru/ff0c8f6c
ОБЩЕЕ КОЛИЧЕСТВО ЧАСОВ ПО ПРОГРАММЕ		68	3	3		

11 КЛАСС

№ п / п	Темаурока	Количествочасов			Датаизуч ения	Электронныцифровыеобразоват ельныересурсы
		Все го	Контрольные работы	Практические работы		
1	Постоянные магниты и их взаимодействие. Магнитное поле. Вектор магнитной индукции. Линиимагнитнойиндукции	1				Библиотека ЦОК https://m.edsoo.ru/ff0c9778
2	Магнитное поле проводника с током. Опыт Эрстеда. Взаимодействие проводников с током	1				Библиотека ЦОК https://m.edsoo.ru/ff0c98fe
3	Лабораторная работа «Изучение магнитного поля катушки с током»	1		1		Библиотека ЦОК https://m.edsoo.ru/ff0c98fe
4	Действие магнитного поля на проводник с током. Сила Ампера. Лабораторная работа «Исследование действия постоянного магнита на рамку с током»	1		1		Библиотека ЦОК https://m.edsoo.ru/ff0c9ac0
5	Действие магнитного поля на движущуюся заряженную частицу. Сила Лоренца. Работа силы Лоренца	1				Библиотека ЦОК https://m.edsoo.ru/ff0c9df4

6	Электромагнитная индукция. Поток вектора магнитной индукции. ЭДС индукции. Закон электромагнитной индукции Фарадея	1				
7	Лабораторная работа «Исследование явления электромагнитной индукции»	1		1		Библиотека ЦОК https://m.edsoo.ru/ff0ca150
8	Индуктивность. Явление самоиндукции. ЭДС самоиндукции. Энергия магнитного поля катушки с током. Электромагнитное поле	1				Библиотека ЦОК https://m.edsoo.ru/ff0ca600
9	Технические устройства и их применение: постоянные магниты, электромагниты, электродвигатель, ускорители элементарных частиц, индукционная печь	1				
10	Обобщающий урок «Магнитное поле. Электромагнитная индукция»	1				Библиотека ЦОК https://m.edsoo.ru/ff0cab82
11	Контрольная работа по теме «Магнитное поле. Электромагнитная индукция»	1	1			Библиотека ЦОК https://m.edsoo.ru/ff0cad58
12	Свободные механические колебания. Гармонические колебания. Уравнение	1				Библиотека ЦОК https://m.edsoo.ru/ff0caf06

	гармонических колебаний. Превращение энергии					
13	Лабораторная работа «Исследование зависимости периода малых колебаний груза на нити от длины нити и массы груза»	1		1		
14	Колебательный контур. Свободные электромагнитные колебания в идеальном колебательном контуре. Аналогия между механически ми и электромагнитными колебани ями	1				Библиотека ЦОК https://m.edsoo.ru/ff0cb820
15	Формула Томсона. Закон сохранения энергии в идеальном колебательном контуре	1				Библиотека ЦОК https://m.edsoo.ru/ff0cb9c4
16	Представление о затухающих колебаниях. Вынужденные механические колебания. Резонанс. Вынужденные электромагнит ные колебания	1				Библиотека ЦОК https://m.edsoo.ru/ff0cbb86
17	Переменный ток. Синусоидальный переменный ток. Мощность	1				Библиотека ЦОК https://m.edsoo.ru/ff0cbd34

	переменного тока. Амплитудное и действующее значение силы тока и напряжения					
18	Трансформатор. Производство, передача и потребление электрической энергии	1				
19	Устройство и практическое применение электрического звонка, генератора переменного тока, линий электропередач	1				Библиотека ЦОК https://m.edsoo.ru/ff0cc324
20	Экологические риски при производстве электроэнергии. Культура использования электроэнергии в повседневной жизни	1				
21	Механические волны, условия распространения. Период. Скорость распространения и длина волны. Поперечные и продольные волны	1				Библиотека ЦОК https://m.edsoo.ru/ff0cca54
22	Звук. Скорость звука. Громкость звука. Высота тона. Тембр звука	1				Библиотека ЦОК https://m.edsoo.ru/ff0ccc0c
23	Электромагнитные волны, их	1				Библиотека ЦОК

	свойства и скорость. Шкала электромагнитных волн					https://m.edsoo.ru/ff0ccfe0
24	Принципы радиосвязи и телевидения. Развитие средств связи. Радиолокация	1				
25	Контрольная работа «Колебания и волны»	1	1			Библиотека ЦОК https://m.edsoo.ru/ff0cc6f8
26	Прямолинейное распространение света в однородной среде. Точечный источник света. Луч света	1				Библиотека ЦОК https://m.edsoo.ru/ff0cd350
27	Отражение света. Законы отражения света. Построение изображений в плоском зеркале	1				Библиотека ЦОК https://m.edsoo.ru/ff0cd4e0
28	Преломление света. Полное внутреннее отражение. Предельный угол полного внутреннего отражения	1				Библиотека ЦОК https://m.edsoo.ru/ff0cd7f6
29	Лабораторная работа «Измерение показателя преломления стекла»	1		1		Библиотека ЦОК https://m.edsoo.ru/ff0cd67a
30	Линзы. Построение изображений в линзе. Формула тонкой линзы. Увеличение линзы	1				Библиотека ЦОК https://m.edsoo.ru/ff0cdd1e
31	Лабораторная работа	1		1		

	«Исследование свойств изображений в линзах»					
32	Дисперсия света. Сложный состав белого света. Цвет. Лабораторная работа «Наблюдение дисперсии света»	1		1		
33	Интерференция света. Дифракция света. Дифракционная решётка	1				Библиотека ЦОК https://m.edsoo.ru/ff0ced22
34	Поперечность световых волн. Поляризация света	1				Библиотека ЦОК https://m.edsoo.ru/ff0cf02e
35	Оптические приборы и устройства и условия их безопасного применения	1				
36	Границы применимости классической механики. Постулаты специальной теории относительности	1				Библиотека ЦОК https://m.edsoo.ru/ff0cf862
37	Относительность одновременности. Замедление времени и сокращение длины	1				Библиотека ЦОК https://m.edsoo.ru/ff0cfa42
38	Энергия и импульс релятивистской частицы. Связь массы с энергией и импульсом. Энергия покоя	1				Библиотека ЦОК https://m.edsoo.ru/ff0cfc68
39	Контрольная работа «Оптика.	1	1			Библиотека ЦОК https://m.edsoo.ru/ff0cf6f0

	Основы специальной теории относительности»					
40	Фотоны. Формула Планка. Энергия и импульс фотона	1				Библиотека ЦОК https://m.edsoo.ru/ff0cfe16
41	Открытие и исследование фотоэффекта. Опыты А. Г. Столетова	1				Библиотека ЦОК https://m.edsoo.ru/ff0cffe4
42	Законы фотоэффекта. Уравнение Эйнштейна для фотоэффекта. «Красная граница» фотоэффекта	1				Библиотека ЦОК https://m.edsoo.ru/ff0d015e
43	Давление света. Опыты П. Н. Лебедева. Химическое действие света	1				Библиотека ЦОК https://m.edsoo.ru/ff0d04a6
44	Технические устройства и практическое применение: фотоэлемент, фотодатчик, солнечная батарея, светодиод	1				
45	Решение задач по теме «Элементы квантовой оптики»	1				Библиотека ЦОК https://m.edsoo.ru/ff0d0302
46	Модель атома Томсона. Опыты Резерфорда по рассеянию α -частиц. Планетарная модель атома	1				Библиотека ЦОК https://m.edsoo.ru/ff0d091a
47	Постулаты Бора	1				Библиотека ЦОК https://m.edsoo.ru/ff0d0afa

48	Излучение и поглощение фотонов при переходе атома с одного уровня энергии на другой. Вид спектров	1				Библиотека ЦОК https://m.edsoo.ru/ff0d0afa
49	Волновые свойства частиц. Волны де Бройля. Корпускулярно-волновой дуализм. Спонтанное и вынужденное излучение	1				Библиотека ЦОК https://m.edsoo.ru/ff0d0ca8
50	Открытие радиоактивности. Опыты Резерфорда по определению состава радиоактивного излучения	1				Библиотека ЦОК https://m.edsoo.ru/ff0d0fd2
51	Свойства альфа-, бета-, гамма-излучения. Влияние радиоактивности на живые организмы	1				
52	Открытие протона и нейтрона. Изотопы. Альфа-распад. Электронный и позитронный бета-распад. Гамма-излучение	1				Библиотека ЦОК https://m.edsoo.ru/ff0d1162
53	Энергия связи нуклонов в ядре. Ядерные реакции. Ядерный реактор. Проблемы, перспективы, экологические аспекты ядерной энергетики	1				Библиотека ЦОК https://m.edsoo.ru/ff0d1356
54	Элементарные частицы. Открытие позитрона. Методы	1				Библиотека ЦОК https://m.edsoo.ru/ff0d0e38

	наблюдения и регистрации элементарных частиц. Круглый стол «Фундаментальные взаимодействия. Единство физической картины мира»					
55	Вид звёздного неба. Созвездия, яркие звёзды, планеты, их видимое движение. Солнечная система	1				
56	Солнце. Солнечная активность. Источник энергии Солнца и звёзд	1				
57	Звёзды, их основные характеристики. Звёзды главной последовательности. Внутреннее строение звёзд. Современные представления о происхождении и эволюции Солнца и звёзд	1				
58	Млечный Путь — наша Галактика. Положение и движение Солнца в Галактике. Галактики. Чёрные дыры в ядрах галактик	1				
59	Вселенная. Разбегание галактик. Теория Большого взрыва. Реликтовое	1				

	излучение. Метагалактика					
60	Нерешенные проблемы астрономии	1				
61	Контрольная работа «Элементы астрономии и астрофизики»	1	1			
62	Обобщающий урок. Роль физики и астрономии в экономической, технологической, социальной и этической сферах деятельности человека	1				
63	Обобщающий урок. Роль и место физики и астрономии в современной научной картине мира	1				
64	Обобщающий урок. Роль физической теории в формировании представлений о физической картине мира	1				
65	Обобщающий урок. Место физической картины мира в общем ряду современных естественно-научных представлений о природе	1				
66	Резервный урок. Магнитное поле. Электромагнитная индукция	1				

67	Резервный урок. Оптика. Основы специальной теории относительности	1				
68	Резервный урок. Квантовая физика. Элементы астрономии и астрофизики	1				Библиотека ЦОК https://m.edsoo.ru/ff0d1784
ОБЩЕЕ КОЛИЧЕСТВО ЧАСОВ ПО ПРОГРАММЕ		68	4	7		

УЧЕБНО-МЕТОДИЧЕСКОЕ ОБЕСПЕЧЕНИЕ ОБРАЗОВАТЕЛЬНОГО ПРОЦЕССА ОБЯЗАТЕЛЬНЫЕ УЧЕБНЫЕ МАТЕРИАЛЫ ДЛЯ УЧЕНИКА

- 1 *Мякишев Г.Я., Буховцев Б.Б., Сотский Н.Н.* Физика 10 класс. – М.: Просвещение, 2016.
- 2 *Мякишев Г.Я., Буховцев Б.Б., Сотский Н.Н.* Физика 11 класс. – М.: Просвещение, 2014.

МЕТОДИЧЕСКИЕ МАТЕРИАЛЫ ДЛЯ УЧИТЕЛЯ

1. *Мякишев Г.Я., Буховцев Б.Б., Сотский Н.Н.* Физика 10 класс. – М.: Просвещение, 2016.
2. *Рымкевич А.П.* Сборник задач по физике. 10 – 11 класс. – М.: Дрофа, 2006.
3. *Марон А.Е., Марон Е.А.* Физика. Дидактические материалы. 10 класс. – М.: Дрофа, 2004.
4. Федеральный компонент государственных образовательных стандартов начального общего, основного общего и среднего (полного) общего образования (утвержден приказом Минобрнаукиот 05.03.2004г. № 1089).
5. Концепция модернизации российского образования на период до 2010 года и Концепция профильного обучения на старшей ступени общего образования (приказ МО РФ от 18.07.2002 № 2783).
6. Примерные программы по физике (письмо Департамента государственной политики в образовании Минобрнауки России от 07.07.2005г. № 03-1263)
7. *Сауров Ю.А.* Физика в 11 классе: Модели уроков: Кн. Для учителя. – М.: Просвещение, 2005
8. *В.Г. Маркина.* Физика 11 класс: поурочные планы по учебнику Г.Я. Мякишева, Б.Б. Буховцева. – Волгоград: Учитель, 2006
9. *В. А. Коровин, В. А. Орлов* "Оценка качества подготовки выпускников средней (полной) школы. М.: изд-во "Дрофа" – 2001 г
10. Контрольные работы по физике в 7-11 классах средней школы: Дидактический материал. Под ред. Э.Е. Эвенчик, С.Я. Шамаша. – М.: Просвещение, 1991.
11. *Кабардин О.Ф., Орлов В.А.* Физика. Тесты. 10-11 классы. – М.: Дрофа, 2000.
12. *Кирик Л.А., Дик Ю.И.* Физика. 11 класс. Сборник заданий и самостоятельных работ.– М: Илекса, 2004.
13. *Марон А.Е., Марон Е.А.* Физика 11 класс. Дидактические материалы.- М.: Дрофа, 2004

14. *Мякишев Г.Я., Буховцев Б.Б., Сотский Н.Н.* Физика 11 класс. – М.: Просвещение, 2014.

ЦИФРОВЫЕ ОБРАЗОВАТЕЛЬНЫЕ РЕСУРСЫ И РЕСУРСЫ СЕТИ ИНТЕРНЕТ

Библиотека ЦОК <https://m.edsoo.ru/ff0d1784>

Приложение

Контрольная работа «Кинематика»

Вариант №1

1. Два лыжника, находясь друг от друга на расстоянии 140 м, движутся навстречу друг другу. Один из них, имея начальную скорость 5 м/с, поднимается в гору равнозамедленно с ускорением $0,1 \text{ м/с}^2$. Другой, имея начальную скорость 1 м/с, спускается с горы с ускорением $0,2 \text{ м/с}^2$.
 - А) Через какое время скорости лыжников станут равными?
 - Б) С какой скоростью движется второй лыжник относительно первого в этот момент времени?
 - В) Определите время и место встречи лыжников.
2. С вертолета, летящего горизонтально на высоте 320 м со скоростью 50 м/с, сброшен груз.
 - А) Сколько времени будет падать груз? (Сопротивлением воздуха пренебречь)
 - Б) Какое расстояние пролетит груз по горизонтали за время падения?
 - В) С какой скоростью груз упадет на землю?
3. На станке сверлят отверстие диаметром 20 мм при скорости внешних точек сверла $0,4 \text{ м/с}$.
 - А) Определите центростремительное ускорение внешних точек сверла и укажите направление векторов мгновенной скорости и центростремительного ускорения.
 - Б) Определите угловую скорость вращения сверла.
 - В) Сколько времени потребуется, чтобы просверлить отверстие глубиной 150 мм при подаче 0,5 мм на один оборот сверла?

Вариант №2

1. Два автомобиля вышли со стоянки одновременно с ускорениями $0,8 \text{ м/с}^2$ и $0,6 \text{ м/с}^2$ в противоположных направлениях.
 - А) Чему равны скорости автомобилей через 20 с после начала движения?
 - Б) С какой скоростью движется первый автомобиль относительно второго в этот момент времени?
 - В) Через какое время после выхода со стоянки первый автомобиль пройдет расстояние, на 250 м больше, чем второй?
2. Из пушки произвели выстрел под углом 45° к горизонту. Начальная скорость снаряда 400 м/с .
 - А) Через какое время снаряд будет находиться в наивысшей точке полета? (Сопротивлением воздуха пренебречь)
 - Б) На какую максимальную высоту поднимется снаряд при полете? Чему равна дальность полета снаряда?
 - В) Как изменится дальность полета снаряда, если выстрел произвести под углом 60° к горизонту?
3. Лебедка, радиус барабана которой 8 см, поднимает груз со скоростью 40 см/с .
 - А) Определите центростремительное ускорение внешних точек барабана и укажите направление векторов мгновенной скорости и центростремительного ускорения.
 - Б) С какой угловой скоростью вращается барабан?
 - В) Сколько оборотов сделает барабан лебедки при подъеме груза на высоту 16 м?

Контрольная работа «Динамика»

Вариант №1

1. Брусок соскальзывает вниз по наклонной плоскости с углом наклона плоскости к горизонту 30° . Коэффициент трения бруска о наклонную плоскость $0,3$.
 - А) Изобразите силы, действующие на брусок.
 - Б) С каким ускорением скользит брусок по наклонной плоскости?
 - В) Какую силу, направленную вдоль наклонной плоскости, необходимо приложить к бруску, чтобы он двигался вверх по наклонной плоскости с тем же ускорением? Масса бруска 10 кг .
2. Подвешенный на нити шарик массой 100 г отклонили от положения равновесия на угол 60° и отпустили.
 - А) Чему равна сила натяжения нити в этот момент времени?

- Б) С какой скоростью шарик пройдет положение равновесия, если сила натяжения нити при этом будет равна 1,25 Н? длина нити 1,6 м.
- В) На какой угол от вертикали отклонится нить, если шарик вращать с такой же скоростью в горизонтальной плоскости?
3. Космический корабль массой 10 т движется по круговой орбите искусственного спутника Земли на высоте, равной 0,1 радиуса Земли.
- А) С какой силой корабль притягивается к Земле? (Массу Земли принять равной $6 \cdot 10^{24}$ кг, а ее радиус – равным 6400 км)
- Б) Чему равна скорость движения космического корабля?
- В) Сколько оборотов вокруг Земли совершит космический корабль за сутки?

Вариант №2

1. Брусок равномерно скользит вниз по наклонной плоскости с углом наклона плоскости к горизонту 30° ($g \approx 10 \text{ м/с}^2$).
- А) Изобразите силы, действующие на брусок.
- Б) Определите коэффициент трения бруска о плоскость.
- В) С каким ускорением стал бы двигаться брусок при увеличении угла наклона до 45° ?
2. На диске, который вращается вокруг вертикальной оси, проходящей через его центр, лежит маленькая шайба массой 50 г. Шайба прикреплена к горизонтальной пружине длиной 25 см, закрепленной в центре диска. Коэффициент трения шайбы о диск 0,2.
- А) При какой минимальной линейной скорости движения шайбы пружина еще будет в нерастянутом состоянии?
- Б) С какой угловой скоростью должен вращаться диск, чтобы пружина удлинилась на 5 см? жесткость пружины 100 Н/м.
- В) Чему равен диаметр диска, если шайба слетит с него при угловой скорости 20 рад/с?
3. Планета Марс, масса которой равна 0,11 массы Земли, удалена от Солнца на расстояние, в 1,52 раза больше, чем Земля.
- А) Во сколько раз сила притяжения Марса к Солнцу меньше, чем сила притяжения Земли к Солнцу?
- Б) С какой средней скоростью движется Марс по орбите вокруг Солнца? (Среднюю скорость движения Земли по орбите вокруг Солнца принять равной 30 км/с.)
- В) Сколько земных лет составляет один год на Марсе?

Контрольная работа «Законы сохранения»

Вариант №1

1. Пуля массой 10 г, летящая горизонтально со скоростью 347 м/с, попадает в свободно подвешенный на нити небольшой ящик с песком массой 2 кг и застревает в нем.
 - А) Определите скорость ящика в момент попадания в него пули.
 - Б) Какую энергию приобрела система «ящик с песком – пуля» после взаимодействия пули с ящиком?
 - В) На какой максимальный угол от первоначального положения отклонится нить, на которой подвешен ящик, после попадания в него пули? Длина нити 1 м.
2. Подъемный кран равномерно поднимает груз массой 2 т на высоту 15 м.
 - А) Какую работу против силы тяжести совершает кран?
 - Б) Чему равен КПД крана, если время подъема груза 1 мин, а мощность электродвигателя **6,25 кВт**?
 - В) При какой мощности электродвигателя крана возможен равноускоренный подъем того же груза из состояния покоя на высоту 20 м за то же время? (КПД крана считать неизменным)
3. Труба массой 2,1 т и длиной 16 м лежит на двух опорах, расположенных на расстояниях 4 и 2 м от ее концов.
 - А) Изобразите силы, действующие на трубу, определите плечи этих сил относительно точки касания трубы с правой опорой и запишите условие равновесия трубы.
 - Б) Чему равна сила давления трубы на левую опору?
 - В) Какую силу необходимо приложить к правому концу трубы, чтобы приподнять его?

Вариант №2

1. Пуля массой 10 г, летящая горизонтально со скоростью 500 м/с, попадает в ящик с песком массой 2,49 кг, лежащий на горизонтальной поверхности, и застревает в нем.
 - А) Чему равна скорость ящика в момент попадания в него пули?
 - Б) Ящик скреплен пружиной с вертикальной стенкой. Чему равна жесткость пружины, если она сжалась на 5 см после попадания в ящик пули? (трением между ящиком и поверхностью пренебречь.)
 - В) На сколько сжалась бы пружина, если бы коэффициент трения между ящиком и поверхностью был равен 0,3?



2. Мощность двигателя подъемного крана 4,4 кВт.
 - А) Определите полезную работу, которую совершает двигатель крана за 0,5 мин, если КПД крана 80%?
 - Б) Определите массу груза, который можно равномерно поднять на высоту 12 м за это же время.

- В)** При каком КПД крана возможен равноускоренный подъем груза массой 1 т из состояния покоя на ту же высоту за то же время?
(Мощность двигателя крана считать неизменной)
- 3.** К балке массой 200 кг и длиной 5 м подвешен груз массой 250 кг на расстоянии 3 м от левого конца. Балка своими концами лежит на опорах.
- А)** Изобразите силы, действующие на балку, определите плечи этих сил относительно точки касания балки с левой опорой и запишите условие равновесия балки.
- Б)** Определите силу реакции правой опоры.
- В)** Какую силу необходимо приложить к левому концу балки, чтобы приподнять его?

Контрольная работа «Механические колебания и волны»

Вариант №1

- 1.** Материальная точка совершает 300 колебаний за 1 мин.
- А)** Определите период и частоту колебаний материальной точки.
- Б)** Составьте уравнение гармонических колебаний материальной точки и постройте график этих колебаний, если в момент времени $t=0$ ее смещение от положения равновесия максимально и равно 4 см.
- В)** Запишите уравнение зависимости скорости и ускорения материальной точки от времени и определите амплитудные значения этих величин.
- 2.** Груз совершает колебания в горизонтальной плоскости на пружине, жесткость которой 50 Н/м.
- А)** Определите полную механическую энергию колебательной системы, если амплитуда колебаний груза равна 5 см.
- Б)** С какой скоростью груз проходит положение равновесия? Масса груза 500 г.
- В)** Как изменится скорость колеблющегося груза к тому времени, когда кинетическая и потенциальная энергии колебательной системы будут равны?
- 3.** Источник звука, колеблющийся с периодом 0,002 с, возбуждает в воде волны с длиной волны 2,9 м.
- А)** Определите скорость звука в воде.
- Б)** Во сколько раз изменится длина звуковой волны при ее переходе из воды в воздух? (Скорость распространения звуковой волны в воздухе принять равной 330 м/с)
- В)** Определите расстояние между ближайшими точками среды, фазы колебаний которых противоположны, если распространение звуковой волны происходит в воздухе.

Вариант №2

1. Материальная точка совершает гармонические колебания по закону $x = 0,05 \sin \pi t$.
- А) Определите амплитуду, период и частоту колебаний материальной точки.
 - Б) Постройте график колебаний материальной точки и определите, в какой, ближайшей к $t = 0$, момент времени фаза колебаний будет равна $\pi/2$ рад.
 - В) Запишите уравнение зависимости скорости и ускорения материальной точки от времени и определите их значение в этот (смотрите пункт Б) момент времени.
2. Период колебаний математического маятника в покоящемся лифте 1 с.
- А) Чему равна длина маятника?
 - Б) С каким ускорением стал двигаться лифт, если период колебаний маятника увеличился до 1,1 с?
 - В) Как изменится в этой ситуации период колебаний пружинного маятника, совершающего колебания без трения в горизонтальной плоскости?
3. Скорость распространения звуковой волны в воздухе 340 м/с, ее частота 680 Гц.
- А) Определите длину звуковой волны.
 - Б) При переходе звуковой волны из воздуха в жидкую среду (нефть) ее длина волны увеличивается в 3,9 раза. Чему равна скорость распространения звука в жидкой среде?
 - В) Чему равна разность фаз колебаний двух точек жидкой среды, находящихся друг от друга на расстоянии 97,5 см?

Контрольная работа «Молекулярно – кинетическая теория газов»

Вариант №1

1. В опыте Штерна для определения скорости движения атомов используется платиновая проволока, покрытая серебром. При нагревании проволоки электрическим током серебро испаряется.
- А) Определите массу атома серебра.
 - Б) Почему в опыте Штерна на поверхности внешнего вращающегося цилиндра атомы серебра оседают слоем неодинаковой толщины?
 - В) Определите скорость большей части атомов серебра, если при частоте вращения цилиндров 50 об/с смещение полоски составило 6 мм. Радиус внешнего цилиндра 10,5 см, внутреннего цилиндра 1 см.
2. В тонкостенном резиновом шаре содержится воздух массой 5 г при температуре 27°C и атмосферном давлении 10^5 Па.
- А) Определите объем шара (Молярную массу воздуха принять равной $29 \cdot 10^{-3}$ кг/моль.)

Б) При погружении шара в воду, температура которой 7°C его объем уменьшился на 2,3 л. Определите давление воздуха в шаре.

(Упругостью резины пренебречь)

В) Сколько молекул газа ударится о единицу внутренней поверхности шара (1 м^2) за 1 с в этом случае?

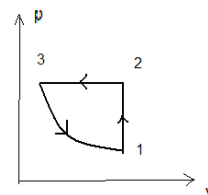
3. С идеальным газом был произведен процесс, изображенный на рисунке.

Масса газа постоянна.

А) Назовите процессы, происходящие с идеальным газом.

Б) Изобразите графически эти процессы в координатах p, T

В) Изобразите графически зависимость плотности идеального газа от температуры для этих процессов.



Вариант №2

1. Перрен наблюдал беспорядочное движение взвешенных частиц гуммигута в жидкости.

А) Чем обусловлено движение частиц гуммигута и почему заметнее движение мелких частиц?

Б) Сколько молекул содержится в броуновской частице в опыте Перрена, если масса частицы $8,5 \cdot 10^{-15}\text{ г}$, а относительная молекулярная масса гуммигута 320?

В) Во сколько раз различаются средние квадратичные скорости гуммигута и молекул воды, в которой они взвешены?

2. Сосуд объемом 20 л наполнили азотом, масса которого 45 г, при температуре 27°C .

А) Определите давление газа в сосуде.

Б) Каким будет давление, если в этот сосуд добавить кислород массой 32 г? Температуры газов одинаковы и постоянны.

В) Какую часть смеси необходимо выпустить из сосуда, чтобы давление в нем уменьшилось до атмосферного? Температура при этом понижается на 10 К.

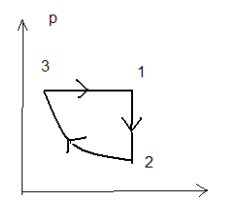
3. С идеальным газом был произведен процесс, изображенный на рисунке.

Масса газа постоянна.

А) Назовите процессы, происходящие с идеальным газом.

Б) Изобразите графически эти процессы в координатах V, T

В) Изобразите графически зависимость плотности идеального газа от температуры для этих процессов.



Контрольная работа №6 «Жидкость и твердое тело»

Вариант №1

1. В комнате объемом 50 м^3 при температуре 20°C относительная влажность воздуха равна 40% .
 - А) Определите давление водяного пара, содержащегося в воздухе.
 - Б) Чему равна масса водяного пара в комнате?
 - В) Сколько воды должно еще испариться, чтобы относительная влажность воздуха увеличилась в $1,5$ раза?
2. Шар, изготовленный из монокристалла, при нагревании может изменить не только свой объем, но форму.
 - А) Объясните, почему это может произойти.
 - Б) Существуют ли в природе монокристаллы шарообразной формы? Ответ обоснуйте.
 - В) Возможно ли при нагревании изменение формы шара, изготовленного из стали? Ответ обоснуйте.

Вариант №2

1. В подвале при температуре 7°C относительная влажность воздуха равна 100% .
 - А) Определите давление водяного пара, содержащегося в воздухе.
 - Б) Чему равна масса воды, содержащейся в каждом кубическом метре воздуха?
 - В) Сколько воды выделится в виде росы при понижении температуры воздуха на 2°C ? Объем подвала 20 м^3 .
2. Разбили кусочек стекла и крупный кусок поваренной соли. Осколки стекла в отличие от поваренной соли оказались неправильной формы.
 - А) Почему наблюдается такое различие?
 - Б) Почему в таблице температур плавления различных веществ нет температуры плавления стекла?
 - В) С каким из этих веществ по своим свойствам сходна медь? Почему?

Контрольная работа «Основы термодинамики»

Вариант №1

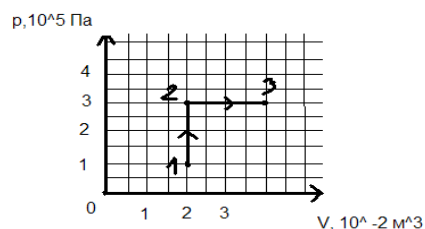
1. Газ, содержащийся в сосуде под поршнем, расширился изобарно при давлении $2 \cdot 10^5 \text{ Па}$ от объема $V_1 = 15 \text{ л}$ до объема $V_2 = 25 \text{ л}$.

- А) Определите работу, которую совершил газ, при расширении. Изобразите этот процесс графически в координатах p, V и дайте геометрическое истолкование совершенной работе.
- Б) Какое количество теплоты было сообщено газу, если его внутренняя энергия при расширении увеличилась на 1 кДж?
- В) На сколько изменилась температура газа, если его масса 30 г?
2. В алюминиевой кастрюле массой 0,3 кг находится вода массой 0,5 кг и лед массой 90 г при температуре 0°C .
- А) Какое количество теплоты потребуется, чтобы довести содержимое кастрюли до кипения?
- Б) Какое количество теплоты поступало к кастрюле в единицу времени и какая часть тепла не использовалась, если нагревание длилось 10 мин? Мощность нагревателя 800 Вт.
- В) Какая часть воды выкипит, если нагревание проводить в 2 раза дольше?
3. Тепловая машина, работающая по циклу Карно, за один цикл совершает работу, равную 2,5 кДж, и отдает холодильнику количество теплоты, равное 2,5 кДж.
- А) Определите КПД тепловой машины.
- Б) Чему равна температура нагревателя, если температура холодильника 17°C ?
- В) Какое топливо использовалось в тепловой машине, если за один цикл сгорало 0,12 г топлива?

Вариант №2

1. Газ переходит из состояния 1 в состояние 3 через промежуточное состояние 2.

- А) Определите работу, которую совершает газ.
- Б) Как изменилась внутренняя энергия газа, если ему было сообщено количество теплоты, равное 8 кДж?
- В) На сколько и как изменилась температура одноатомного газа, взятого в количестве 0,8 моль?



2. В холодильнике из воды, температура которой 20°C , получили лед массой 200 г при температуре -5°C .
- А) Какое количество теплоты было отдано водой и льдом?
- Б) Сколько времени затрачено на получение льда, если мощность холодильника 60 Вт, а количество теплоты, выделившееся при получении льда, составляет 10% от количества энергии, потребленной холодильником?

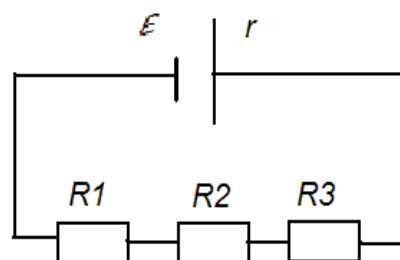
- В) Какое количество теплоты Q было отдано холодильником воздуху в комнате за это же время? (Теплоемкостью холодильника пренебречь)
3. Температура нагревателя идеальной тепловой машины 227°C , а температура холодильника 47°C .
- А) Чему равен КПД тепловой машины?
- Б) Определите работу, совершаемую тепловой машиной за один цикл, если холодильнику сообщается количество теплоты, равное $1,5$ кДж.
- В) Определите массу условного топлива, которое необходимо сжечь для совершения такой же работы.

Контрольная работа «Постоянный электрический ток»

Вариант №1

1. Медный проводник имеет длину 500 м и площадь поперечного сечения $0,5$ мм².
- А) Чему равна сила тока в проводнике при напряжении на его концах 12 В? Удельное сопротивление меди $1,7 \cdot 10^{-8}$ Ом·м.
- Б) Определите скорость упорядоченного движения электронов. Концентрацию свободных электронов для меди примите равной $8,5 \cdot 10^{28}$ м⁻³, а модуль заряда электрона равным $1,6 \cdot 10^{-19}$ Кл.
- В) К первому проводнику последовательно подсоединили второй медный проводник вдвое большего диаметра. Какой будет скорость упорядоченного движения электронов во втором проводнике?
2. К источнику тока, ЭДС которого равна 6 В, подключены резисторы, сопротивления которых $R_1 = 1$ Ом, $R_2 = R_3 = 2$ Ом. Сила тока в цепи равна 1 А.

- А) Определите внутреннее сопротивление источника тока.
- Б) Какой станет сила тока в резисторе R_1 , если к резистору R_3 параллельно подключить такой же резистор R_4 ?
- В) Определите потерю мощности в источнике тока в случае Б).



3. Электродвигатель подъемного крана работает под напряжением 380 В, сила тока в его обмотке равна 20 А.
- А) Какую работу совершает электрический ток в обмотке электродвигателя за 40 с?
- Б) На какую высоту за это время кран может поднять бетонный шар массой 1 т, если КПД установки 60% ?

В) Как изменятся энергетические затраты на подъем груза, если его пудут поднимать из реки в воде? Плотность воды $1 \cdot 10^3 \text{ кг/м}^3$.
(Сопротивлением жидкости при движении груза пренебречь)

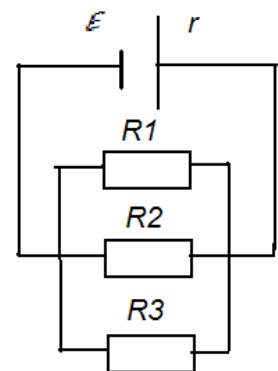
Вариант №2

1. Стальной проводник диаметром 1 мм имеет длину 100 м.
А) Определите сопротивление стального проводника, если удельное сопротивление стали $12 \cdot 10^{-8} \text{ Ом} \cdot \text{м}$.
Б) Какое напряжение нужно приложить к концам этого проводника, чтобы через его поперечное сечение за 0,3 с прошел заряд 1 Кл?
В) При какой длине проводника и этом напряжении на его концах (см. пункт Б) скорость упорядоченного движения электронов будет равна 0,5 мм/с? Концентрация электронов проводимости в стали 10^{28} м^{-3} .
 Модуль заряда электрона примите равным $1,6 \cdot 10^{-19} \text{ Кл}$.
2. К источнику тока, ЭДС которого равна 6 В, подключены три одинаковых резистора сопротивлением 12 Ом каждый. Сила тока в неразветвленной части цепи равна 1,2 А.

А) Определите внутреннее сопротивление источника тока.

Б) К этим трем резисторам последовательно подключили резистор сопротивлением $R_4 = 1 \text{ Ом}$. Чему равна сила тока в резисторе R_4 ?

В) Чему равна мощность, которую выделяет источник тока во внешней цепи в случае Б)?



3. Электрочайник со спиралью нагревательного элемента сопротивлением 30 Ом включен в сеть напряжением 220 В.
А) Какое количество теплоты выделится в нагревательном элементе за 4 мин.?
Б) Определите КПД электрочайника, если в нем можно вскипятить за это же время 1 кг воды, начальная температура которой 20^0 C .
 Удельная теплоемкость воды $4,19 \text{ кДж/кг} \cdot \text{К}$.
В) Какая часть воды могла бы выкипеть за это же время работы электрочайника, если бы сопротивление спирали нагревательного элемента было равно 25 Ом? Удельная теплота парообразования воды $2,3 \text{ МДж/кг}$.

Контрольная работа «Электростатика»

Вариант №1

- Два точечных заряда $q_1 = 20$ нКл и $q_2 = 50$ нКл расположены на расстоянии 10 см друг от друга в вакууме.

 - С какой силой взаимодействуют эти заряды?
 - На каком расстоянии от заряда q_1 расположена точка, в которую помещается заряд q_3 , находящийся при этом в равновесии?
 - Чему равны напряженность и потенциал электрического поля, созданного зарядами q_1 и q_2 в этой точке?
- Однородное электрическое поле создано двумя параллельными противоположно заряженными пластинами, находящимися друг от друга на расстоянии 20 мм. Напряженность электрического поля равна 3 кВ/м.

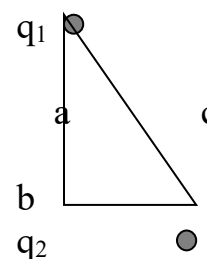
 - Чему равна разность потенциалов между пластинами?
 - Какую скорость в направлении силовых линий поля приобретет первоначально покоящийся протон, пролетев пространство между пластинами? Заряд протона $1,6 \cdot 10^{-19}$ Кл, его масса $1,67 \cdot 10^{-27}$ кг.
 - Во сколько раз меньшую скорость приобрел бы α -частица, заряд которой в 2 раза больше заряда протона, а масса в 4 раза больше массы протона?
- Плоский воздушный конденсатор емкостью 0,5 мкФ подключили к источнику постоянного напряжения 100 В.

 - Какой заряд накопит конденсатор при зарядке?
 - Чему равна энергия заряженного конденсатора?
 - После отключения конденсатора от источника напряжения расстояние между его пластинами увеличили в 2 раза. Веществом с какой диэлектрической проницаемостью необходимо заполнить пространство между пластинами, чтобы энергия заряженного конденсатора осталась неизменной?

Вариант №2

- В двух вершинах треугольника со сторонами $a = 4$ см, $b = 3$ см и $c = 5$ см находятся заряды $q_1 = 8$ нКл и $q_2 = -6$ нКл.

 - С какой силой взаимодействуют эти заряды?
 - Определите напряженность электрического поля в третьей вершине треугольника.
 - Определите потенциал электростатического поля в третьей вершине треугольника.



- Пылинка с зарядом 3,2 нКл неподвижно висит в однородном электрическом поле.

 - Сколько электронов необходимо поместить на пылинку для ее нейтрализации? (Модуль заряда электрона принять равным $1,6 \cdot 10^{-19}$ Кл.)

- Б) Чему равна масса пылинки, если напряженность электрического поля равна 40 кН/Кл ?
- В) С каким ускорением двигалась бы пылинка, если бы напряженность электрического поля была в 2 раза больше?
3. При подключении плоского воздушного конденсатора к источнику постоянного напряжения 120 В на конденсаторе может быть накоплен заряд $0,36 \text{ мкКл}$.
- А) Определите емкость конденсатора.
- Б) Чему равна энергия заряженного конденсатора?
- В) Как нужно изменить расстояние между пластинами конденсатора, чтобы не отключая его от источника напряжения, увеличить накопленную конденсатором энергию в 2 раза?

Контрольная работа «Электрический ток в различных средах»

Вариант №1

1. При пропускании тока от источника постоянного напряжения через стальной проводник проводник нагревается.
- А) Как изменяется сопротивление проводника и почему?
- Б) При какой температуре сопротивление проводника становится больше на 20% по сравнению с сопротивлением при температуре 0°С ? Температурный коэффициент сопротивления для стали $0,006 \text{ К}^{-1}$.
- В) На сколько процентов в этом случае изменяется мощность, выделяемая в проводнике?
2. При обычных условиях газы почти полностью состоят из нейтральных атомов и молекул и являются диэлектриками.
- А) Под влиянием каких факторов газ может стать проводником электричества?
- Б) В газоразрядной трубке площадь каждого электрода 1 дм^2 , а расстояние между электродами 5 мм . Ионизатор каждую секунду образует в объеме 1 см^3 газа $12,5 \cdot 10^6$ положительных ионов и столько же электронов. Определите силу тока насыщения, который установится в этом случае. Модуль заряда электрона $e = 1,6 \cdot 10^{-19} \text{ Кл}$.
- В) При каком значении напряжения между электродами в трубке может начаться самостоятельный газовый разряд, если длина свободного пробега электрона $0,05 \text{ мм}$, а энергия ионизации молекул газа $2,4 \cdot 10^{-18} \text{ Дж}$?
3. В электролитической ванне хромирование детали проводилось при силе тока 5 А в течении 1 ч .
- А) Определите массу хрома, который осел на детали. Электрохимический эквивалент хрома $0,18 \text{ мг/Кл}$.
- Б) Чему равна площадь поверхности детали, если толщина покрытия составила $0,05 \text{ мм}$? Плотность хрома $7,2 \cdot 10^3 \text{ кг/м}^3$.

В) Сколько атомов хрома осело на каждом квадратном сантиметре поверхности детали? Молярная масса хрома 52 г/моль.

Вариант №2

1. Температура полупроводникового термистора увеличилась.
А) Как изменилось сопротивление термистора и почему?
Б) Термистор включен в цепь постоянного тока последовательно с резистором сопротивлением 400 Ом. Напряжение в цепи 12 В. При комнатной температуре сила тока в цепи 3 мА. Чему равно сопротивление термистора?
В) При нагревании термистора сила тока в цепи увеличилась до 9 мА. Во сколько раз при этом изменилось сопротивление термистора?
2. Электрический ток в вакууме представляет собой поток электронов.
А) как получить поток электронов в вакууме?
Б) В электронно-лучевой трубке поток электронов ускоряется электрическим полем между катодом и анодом с разностью потенциалов 2 кВ. Определите скорость электронов при достижении ими анода. Модуль заряда электрона $e = 1,6 \cdot 10^{-19}$ Кл, масса электрона $9,1 \cdot 10^{-31}$ кг.
В) Пройдя отверстие в аноде, электроны попадают в пространство между двумя вертикально отклоняющимися пластинами длиной 3 см каждая, напряженность электрического поля между которыми составляет 300 В/см. Определите вертикальное смещение электронов на выходе из пространства между пластинами.
3. Серебрение детали продолжалось 0,5 ч при силе тока в электролитической ванне 2 А.
А) Чему равна масса серебра, которое осело на детали? Электрохимический эквивалент серебра 1,12 мг/Кл.
Б) Чему равна толщина покрытия, если площадь поверхности детали 100 см²? Плотность серебра $10,2 \cdot 10^3$ кг/м³.
В) При каком напряжении проводилось серебрение детали, если было затрачено 0,025 кВт · ч электрической энергии, а КПД установки 80%?

Контрольная работа «Магнитное поле»

Вариант №1

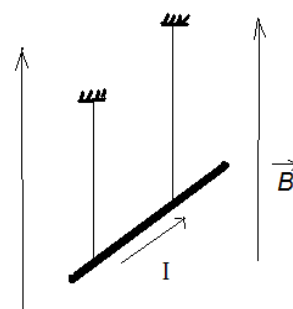
1. В воздушных проводах, питающих двигатель троллейбуса, ток идет в противоположных направлениях.
А) Как взаимодействуют воздушные провода?
Б) Опишите механизм взаимодействия воздушных проводов. Ответ поясните рисунком.
В) Оказывает ли влияние на взаимодействие проводов электрическое взаимодействие зарядов?

2. Проводник длиной 15 см подвешен горизонтально на двух невесомых нитях в магнитном поле с индукцией 60 мТл, причем линии индукции направлены вверх перпендикулярно проводнику.

А) по проводнику пропустили ток. Сила тока 2 А. С какой силой магнитное поле действует на проводник? На рисунке укажите направление этой силы.

Б) На какой угол от вертикали отклонятся нити, на которых висит проводник? Масса проводника 10 г.

В) Чему равна сила натяжения каждой нити?



3. Протон влетает в магнитное поле с индукцией 20 мТл со скоростью 10 км/с под углом 30° к линиям магнитной индукции.

А) С какой силой магнитное поле действует на протон? Заряд протона $e = 1,6 \cdot 10^{-19}$ Кл.

Б) За какое время протон совершит один полный оборот вокруг линий магнитной индукции? Масса протона $1,67 \cdot 10^{-27}$ кг.

В) На какое расстояние сместится протон вдоль линий магнитной индукции за 10 полных оборотов?

Вариант №2

1. В двух параллельных проводниках ток проходит в одном направлении.

А) Как взаимодействуют эти проводники?

Б) Опишите механизм взаимодействия проводников. Ответ поясните рисунком.

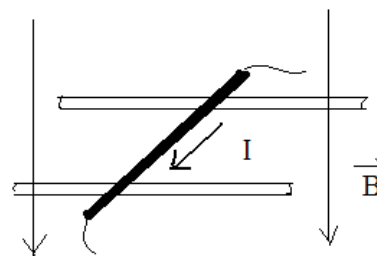
В) Чем обусловлено отталкивание двух параллельных электронных пучков?

2. На двух горизонтальных рельсах, расстояние между которыми 50 см, лежит металлический стержень, сила тока в котором 5 А. Рельсы и стержень находятся в однородном магнитном поле индукцией 50 мТл, направленном перпендикулярно рельсам и стержню.

А) С какой силой магнитное поле действует на стержень? На рисунке укажите направление этой силы.

Б) При каком значении коэффициента трения стержня о рельсы он будет двигаться прямолинейно и равномерно? Масса стержня 125 г.

В) С каким ускорением будет двигаться стержень, если силу тока в нем увеличить в 2 раза?



3. Электрон влетает в магнитное поле индукцией 10 мТл перпендикулярно линиям магнитной индукции со скоростью 1 Мм/с.

А) Чему равен радиус кривизны траектории, по которой движется электрон? Модуль заряда электрона $e = 1,6 \cdot 10^{-19}$ Кл, масса электрона $9,1 \cdot 10^{-31}$ кг.

Б) С какой частотой обращается электрон?

В) Как изменится частота обращения электрона при увеличении магнитной индукции в 2 раза?

Контрольная работа «Электромагнитная индукция»

Вариант №1

1. В катушке с площадью поперечного сечения 5 см^2 индукция однородного магнитного поля равномерно уменьшается от 200 до 50 мТл за 5 мс. Линии магнитной индукции параллельны оси катушки.

А) Определите изменение магнитного потока в катушке.

Б) Чему равна ЭДС индукции, возникшей в катушке, если в ней 500 витков?

В) Чему равна сила индукционного тока, возникшего в катушке? Катушка изготовлена из медного провода с площадью поперечного сечения $0,25 \text{ мм}^2$? Удельное сопротивление меди $1,7 \cdot 10^{-8}$ Ом · м.

2. В соленоиде при изменении в нем силы тока от 2 до 1 А за 2 с возникла ЭДС самоиндукции 0,05 В.

А) Определите индуктивность соленоида.

Б) На сколько изменилась (увеличилась или уменьшилась) энергия магнитного поля соленоида за это время?

В) Определите сопротивление соленоида.

3. Проводник длиной 2 м движется без трения под углом 30° к вектору индукции однородного магнитного поля со скоростью 4 м/с, опираясь своими концами на два параллельных металлических стержня. На концах проводника возникает разность потенциалов 40 мВ.

- А) Чему равна индукция магнитного поля?
- Б) Определите силу тока, который будет идти через амперметр, присоединенный к стержням, если проводник перемещать в этом магнитном поле перпендикулярно линиям индукции с той же скоростью? Сопротивление амперметра 10 Ом. (Сопротивлением стержней и соединительных проводов пренебречь).
- В) Какой заряд пройдет через амперметр при перемещении проводника на расстояние 1 м?

Вариант №2

1. В катушке, содержащей 300 витков проволоки, в течении 6 мс происходит равномерное изменение магнитного потока.
- А) На сколько и как изменился (увеличился или уменьшился) магнитный поток, пронизывающий катушку, если в ней возникла ЭДС индукции, равная 2 В?
- Б) Определите начальное значение индукции магнитного поля, если ее конечное значение 10 мТл. Площадь поперечного сечения катушки 4 см². Линии магнитной индукции перпендикулярны плоскости катушки.
- В) При каком начальном значении индукции магнитного поля возникающая в катушке ЭДС могла быть в 2 раза меньше?
2. В контуре, индуктивность которого 0,5 Гн, при изменении силы тока в течении 0,4 с возникла ЭДС самоиндукции 5 В.
- А) На сколько изменилась сила тока в контуре?
- Б) Во сколько раз за это время изменилась энергия магнитного поля контура? Начальное значение силы тока равно 5 А.
- В) Определите количество теплоты, которое выделилось в контуре за это время.
3. Стальной проводник с длиной активной части 1,4 м перемещается по двум параллельным проводящим направляющим в однородном магнитном поле под углом 45° к вектору магнитной индукции. В проводнике возбуждается ЭДС индукции 0,5 В. Индукция магнитного поля 0,2 Тл.
- А) Чему равна скорость перемещения проводника?
- Б) Какой станет ЭДС индукции, если этот проводник перемещать перпендикулярно линиям индукции с вдвое большей скоростью?
- В) Определите заряд, который будет проходить через поперечное сечение проводника в каждую секунду, если направляющие замкнуть накоротко. Площадь поперечного сечения проводника 5 мм². Удельное сопротивление стали $12 \cdot 10^{-8}$ Ом · м (Сопротивлением направляющих пренебречь).

Контрольная работа «Электромагнитные колебания и волны»

Вариант №1

1. Колебательный контур радиоприемника состоит из конденсатора емкостью 1000 пФ и катушки индуктивностью 50 мкГн.
 - А) Чему равен период собственных колебаний в контуре?
 - Б) На какую длину волны настроен данный радиопремник?
 - В) На сколько и как необходимо изменить емкость конденсатора для настройки радиопремника на длину волны 300 м?
2. В сеть переменного тока напряжением 220 В включена катушка индуктивностью 50 мГн.
 - А) Чему равна частота переменного тока, если сила тока в цепи 1,75 А? (Активным сопротивлением катушки пренебречь).
 - Б) Определите емкость конденсатора, который нужно включить в данную цепь, чтобы в цепи наступил резонанс.
 - В) Определите резонансную частоту в цепи, если последовательно с имеющимся конденсатором включить такой же конденсатор.
3. Первичная обмотка понижающего трансформатора содержит 10 000 витков и включена в сеть переменного тока напряжением 380 В.
 - А) Чему равно напряжение во вторичной обмотке, если она состоит из 1000 витков?
 - Б) Сопротивление вторичной обмотки трансформатора 1 Ом, сила тока в ней 3 А. Чему равно напряжение на нагрузке, подключенной к вторичной обмотке трансформатора?
 - В) Чему равен КПД трансформатора?

Вариант №2

1. Открытый колебательный контур излучает радиоволны с длиной волны 300 м.
 - А) Определите частоту излучаемых волн.
 - Б) Определите индуктивность контура, если его емкость 5000 пФ.
 - В) На сколько и как нужно изменить индуктивность контура, чтобы излучались радиоволны вдвое большей длины волны?
2. В сеть переменного тока с частотой 50 Гц и напряжением 220 В включен конденсатор емкостью 4 мкФ.
 - А) Чему равна сила тока в цепи?
 - Б) Определите индуктивность катушки, которую нужно включить в данную цепь, чтобы в цепи наступил резонанс.
 - В) Чему будет равна резонансная частота в цепи, если параллельно с имеющимся конденсатором включить такой же конденсатор?
3. Напряжение на первичной обмотке трансформатора 6 В, а на вторичной обмотке 120 В.
 - А) Чему равна сила тока во вторичной обмотке, если сила тока в первичной обмотке равна 4 А?

- Б)** Определите напряжение на выходе трансформатора, если его КПД равен 95%.
- В)** Чему равно сопротивление вторичной обмотки трансформатора

Оценочные средства и методические материалы

Класс/ программа	Перечень используемых оценочных средств	Перечень используемых методических материалов
<p>10-11 / Физика10-11 классы. <i>Мякишев Г.Я., Буховцев Б.Б., Сотский Н.Н.</i> Физика 10 класс, физика 11класс</p>	<p>1. Зорин Н.И. Тесты по физике Физика. 10 класс 2. Громцева О. И. Сборник задач по физике. Физика 10-11 класс 3. Зорин Н.И. Тесты по физике Физика. 11 класс 4. Зорин Н.И. Контрольно-измерительные материалы.. Физика. 11 класс 5. Зорин Н.И. Контрольно-измерительные материалы.. Физика. 10 класс 6. <i>Рымкевич А.П.</i> Сборник задач по физике. 10 – 11 класс.</p>	<p>1. Мякишев Г. Я.и др: Физика 10 класс. Учебник для общеобразовательных организаций 2. Мякишев Г. Я.и др: Физика 11 класс. Учебник для общеобразовательных организаций 3. Громцева О. И. Сборник задач по физике. Физика 10-11 класс. 4.. <i>Рымкевич А.П.</i> Сборник задач по физике. 10 – 11 класс.</p>

